

第一部分 行测

1. 发展假日经济，最根本的是要不断提高居民收入。没有强劲的购买力支撑，目前火爆的“假日经济”只能是“_____”。

填入画横线部分最恰当的一项是：

- A.惊鸿一瞥 B.昙花一现 C.明日黄花 D.稍纵即逝

2. 改革开放给中国这样一个农业人口大国带来了持续快速的经济增长，从而被誉为“中国奇迹”。同时，中国在减少农村贫困方面也取得了_____的成就，对于世界经济发展都具有重要意义。

填入画横线部分最恰当的一项是：

- A.难能可贵 B.举世瞩目 C.百年不遇 D.匪夷所思

3. 做强做大实体经济，基础设施建设是关键一环，受劳动力、资源、环境等成本上升影响，依赖低要素成本驱动的发展方式已_____，必须从要素驱动、投资驱动向创新驱动转变。

填入画横线部分最恰当的一项是：

- A.于事无补 B.今非昔比 C.难以为继 D.形同虚设

4. 据说研究当代文学的学者常会感慨于文学排行榜：这首先是个体力活。言语不无戏谑，不过也确实是有感而发：文本在不断演进、生成，且不说过往作品，单是每年动辄几千部的长篇小说，就令人_____。专家尚且如此，普通读者更不必说。因此，在_____的年度作品中，遴选出优秀之作，虽总不免有各自的视角、立场，但仍显得颇有必要。

填入画横线部分最恰当的一项是：

- A.望洋兴叹 更仆难数 B.望而生畏 浩如烟海
C.望尘莫及 不胜枚举 D.望而却步 琳琅满目

5. 中国的文学艺术传统与西方不一样，它是写意、白描、散点透视，_____感悟和感受，理性空间被进一步压缩。而西方的优秀艺术家不会用理性来_____感性，认为它们应该是统一的。

填入画横线部分最恰当的一项是：

- A.注重 代替 B.善于 呼唤
C.疏于 衬托 D.长于 压迫

6. 上千年来，人们都在“气清景明”的节气中，进行“祭之以礼”的追忆活动，为已逝的先人送上思念与敬意。遗憾的是，奇葩祭品的层出不穷，似乎让清明节的文化变了味。留下的，已经不再是纯粹的怀念，而是充满了庸俗的味道，比如，追赶“潮品”的行为，不仅是一种自娱自乐的举动，也不符合低碳环保的理念……可以说，无论是过于商业化的祭品，还是互相攀比的奢华祭品，所表达的，都不再是一种对先人的怀念，而是今人互相之间的一种炫耀与卖弄，这与传统祭祀文化是“相悖”的。

这段文字意在：

- A. 呼唤“清明祭祀”应多些文化少些庸俗
- B. 讲述“清明祭祀”活动的意义以及现状
- C. 强调弘扬清明祭祀传统不要跟“潮流”
- D. 阐述祭祀文化在向“相悖”的方向演变

7. 在现代市场经济中无论是中国的国有独资企业还是西方的私人独资企业都属“私公司”的范畴，而现代股份公司是“公公司”，法人所有制是新型公有制，产权变革都得朝此迈进。事实上中国国企正朝着现代股份制正确方向迈进并获公认成就，下一步的国企改革是进一步朝现代法人的股份公司的方向推进，而不是简单地模仿西方两百年前的老路和俄罗斯私有化失败的教训，机械地把国有独资变成私人独资，那是一种无知和倒退。

这段文字意在说明：

- A. 国企改革应坚持向现代股份公司推进
 - B. 国企改革的途径需视具体的国情而定
 - C. 国有独资企业应尽快向股份公司过渡
 - D. 法人所有制是最适合市场经济的形式
8. 在我国河南省舞阳县贾湖村发现了新石器时代的骨笛，它是目前世界范围内所知同时期保存最为丰富、音乐性能最好的乐器实物。相较于其他史前乐器如陶鼓、陶铃、陶埙、骨哨等，贾湖骨笛在自身发展的道路上逐步完善了音节与发音，能够与现代的笛子相提并论，是人类历史上第一个从单音节到多音节再到完整七音阶的原始乐器。在我们现代人的观念当中可以把这些能发出乐符的骨质管状器物称为原始乐器，但是它在产生之初在史前人们的社会生活中应该有着自己特殊的意义。

作者接下来最有可能讲述的是：

- A. 骨笛是新石器时代音乐文化的重要象征
 - B. 从艺术考古的角度来看音乐的起源问题
 - C. 史前时期骨笛在生活中的其他社会价值
 - D. 不同的文化都存在着对音乐文化的探索
9. 民族传统节日是中华民族传统文化的重要组成部分，其中所蕴含着的精神之钙潜移默化地影响了一代又一代中国人，正如中秋之夜对月祭拜，传承的不只是民间风俗，更是一种深厚的家国情怀。但这远远是不够的，首先传承手段还要创新、与时俱进。其次，要赋予传统文化以新的时代内涵。“以古人之规矩，开自己之生面”，要坚持古为今用、推陈出新，善于结合时代条件，不断拓展传统文化的外延、丰富传统文化的内涵，才能让其永葆青春活力，实现中华文化的创造性转化和创新性发展。

这段文字意在说明：

- A.传承民族传统彰显文化自信
- B.创新发展对传统文化的意义
- C.传统文化靠“传”也靠“创”
- D.应大力传承和发扬传统文化

10. 网络文学的非文学性不仅在于其涵盖面宽泛，包罗万象，更重要的于其幻象化。网络作者想象之荒诞诡异，颇受评论家与读者好评。倘若网络文学的想象能昭示生活真象、能以生活逻辑为基础，并表现作者对社会历史的真知灼见，此种激赏当然并无不可。问题是，文学的文学性不只在于形式，更在于内容，如王国维所推崇的有真景物、真情感的“境界”，或如海德格尔所说事情本身的澄明无蔽。网络文学恰恰缺乏这些，_____。

填入画横线部分最恰当的一项是：

- A.网络文学的虚无想象阻碍了中国文学的健康发展
- B.网络文学多是通过虚无想象来弥补现实中的匮乏
- C.网络文学是否具有文学性还需要进一步讨论商榷
- D.网络写作中的想象时常显得悖谬或缺乏实际可能性

11. 4, 7, 16, 23, 36, (), 64。

- A.46
- B.47
- C.51
- D.48

12. 2, $\frac{6}{7}$, $\frac{12}{13}$, $\frac{20}{19}$, ()。

- A. $\frac{4}{5}$
- B. $\frac{7}{3}$
- C. $\frac{6}{5}$
- D.1

13. 1, 1, 2, 6, ()。

- A.23
- B.21
- C.24
- D.22

14. 48, 12, 30, 21, ()。

- A.16
- B.25.5
- C.20.5
- D.18

15. 0, 9, 26, 65, 124, ()。

- A.215
- B.216
- C.186
- D.217

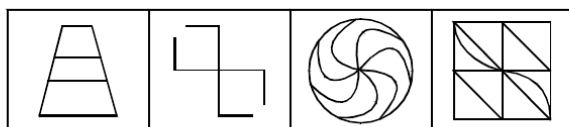

16. 某校操场的一环形跑道长 400 米，甲练习长跑，乙练习自行车，两人同时同地同向 80 秒相遇一次；若两人同时同地反向而行，则 30 秒相遇一次。问甲每分钟跑多少米？

- A.150
- B.200
- C.250
- D.300

17. 甲、乙两人轮流各工作 1 天，若甲先做，那么恰好用整数天完工；若乙先做，那么完工时间要比前一种情况多半天。已知甲单独完成这项任务需 4 天，那么乙单独完成这项任务需多少天？

- A.16
- B.12
- C.10
- D.8

18. 购物中心为迎接新年准备在大厦楼外装饰彩灯，一串从楼身到地面的彩灯需要灯泡 450 个、电线 42 米、固定物 1 对，并要花费一个工人 90 分钟的时间。如果目前到位的材料有灯泡 31500 个、电线 2688 米、固定物 120 个、工人 21 位。那么，每个工人独立工作 3 个小时，最多可以完成多少这样的彩灯串？
- A.42 B.64 C.70 D.120
19. 姐弟俩年龄相差 4 岁，弟弟的孩子小明在他结婚 3 年后出生，今年姐姐的年龄恰好是小明的 17 倍，弟弟的年龄是小明的 15 倍，问姐姐在弟弟结婚时的年龄是多少岁？
- A.26 B.29 C.31 D.34
20. 企业向甲、乙、丙三个优秀研发团队发放总额为 X 万元的奖金，如只发给甲团队，平均每人能得到 20 万元；如只发给乙团队，平均每人能得到 24 万元；如只发给丙团队，平均每人能得到 30 万元。现企业决定向甲团队每人发放 2 万元，剩余奖金平均分配给乙、丙两个团队的每个人。问乙团队的每名成员得到多少万元奖金？
- A.10 B.11 C.12 D.13
21. 甲和乙两家机构分别出资 6000 万元和 4000 万元成立了 A 公司。半年后 A 公司与价值 1.5 亿元的 B 公司合并，此时甲机构在新公司中的股份占比下降到 40%。问并购时 A 公司的价值比成立时增加了多少倍？
- A.1.5 B.2 C.2.5 D.3
22. 两个三口之家在列车上相对的两排 3 人座位上就座，如果孩子必须靠窗或靠过道就座，而每个家庭都必须坐在同一排，问有多少种不同的就座方式？
- A.8 B.16 C.32 D.48
23. 有一段 240 米的路，两端各有一盏路灯，中间每隔 8 米有一盏路灯，道路照明提升改造后要求这段路每隔 6 米有一盏路灯，包括两端在内共有（ ）盏路灯不需要移动。
- A.11 B.9 C.12 D.10
24. 从所给的四个选项中，选择最合适的一个填入问号处，使之呈现一定的规律性。



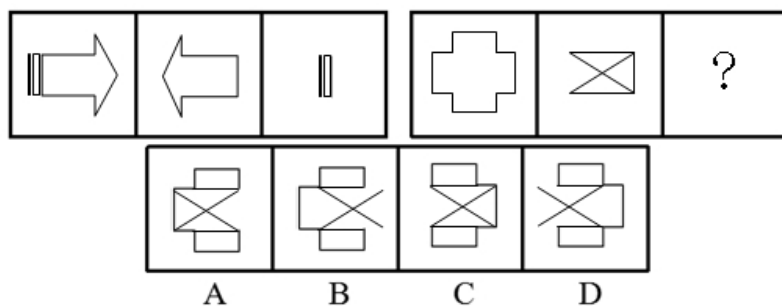
A

B

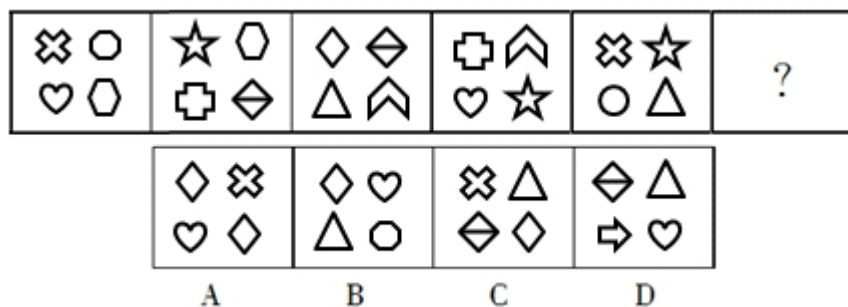
C

D

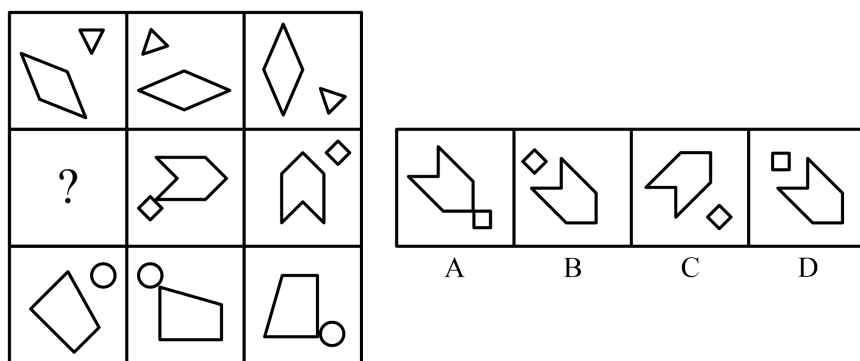
25. 从所给的四个选项中, 选择最合适的一个填入问号处, 使之呈现一定的规律性。



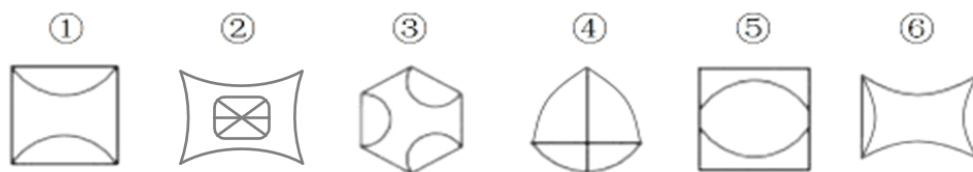
26. 从所给的四个选项中, 选择最合适的一个填入问号处, 使之呈现一定的规律性。



27. 从所给的四个选项中, 选择最合适的一个填入问号处, 使之呈现一定的规律性:



28. 把下面的六个图形分为两类, 使每一类图形都有各自的共同特征或规律, 分类正确的一项是:



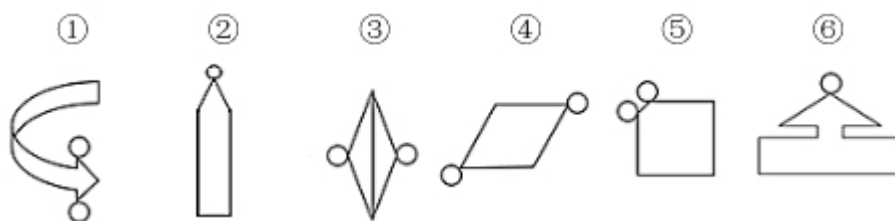
A. ①③⑤, ②④⑥

B. ①②④, ③⑤⑥

C. ①⑤⑥, ②③④

D. ①③⑥, ②④⑤

29. 把下面的图形分为两类, 使每一类图形都有各自的共同特征和规律, 分类正确的一项是:



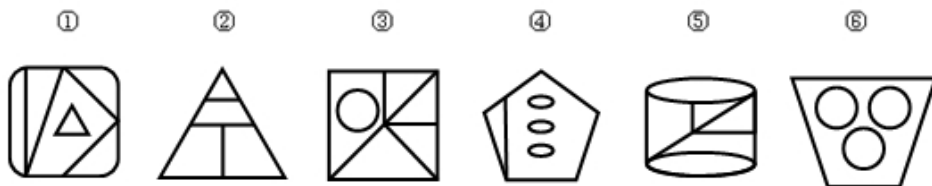
A.①②④, ③⑤⑥

B.①③⑤, ②④⑥

C.①③⑥, ②④⑤

D.①⑤⑥, ②③④

30. 把下面的六个图形分为两类, 使每一类图形都有各自的共同特征或规律, 分类正确的一项是:



A.①②③, ④⑤⑥

B.①②⑤, ③④⑥

C.①③⑥, ②④⑤

D.①④⑥, ②③⑤

31. 化学老师, 英语老师, 语文老师, 数学老师 4 位老师参加学校组织的培训, 坐在 1、2、3、4 四个位置。

他们分别姓张, 王, 李, 赵, 名字为孔, 墨, 荀, 庄

1	2
3	4

已知:

①美女老师李庄坐在数学老师的斜对面。

②坐在 4 号位置的男性语文老师不姓赵。

③姓张的英语老师不叫孔, 而化学老师不在 3 号位置上。

④墨不姓王, 也不是英语老师。

由此可以推出:

A.荀姓王

B.孔姓赵

C.荀是英语老师

D.孔是数学老师

32. 人们知道鸟类能感觉到地球磁场, 并利用它们导航。最近某国科学家发现, 鸟类其实是利用右眼“查看”地球磁场的。为检验该理论, 当鸟类开始迁徙的时候, 该国科学家把若干知更鸟放进一个漏斗形状的庞大的笼子里, 并给其中部分知更鸟的一只眼睛戴上一种可屏蔽地球磁场的特殊金属眼罩。笼壁上涂着标记性物质, 鸟要通过笼子口才能飞出去。如果鸟碰到笼壁, 就会黏上标记性物质, 以此判断鸟能否找到方向。

以下哪项如果为真, 最能支持研究人员的上述发现?

A.没戴眼罩的鸟顺利从笼中飞了出去; 戴眼罩的鸟, 不论左眼还是右眼, 朝哪个方向飞的都有

B.没戴眼罩的鸟和左眼戴眼罩的鸟顺利从笼中飞了出去, 右眼戴眼罩的鸟朝哪个方向飞的都有

C.没戴眼罩的鸟和左眼戴眼罩的鸟朝哪个方向飞的都有, 右眼戴眼罩的鸟顺利从笼中飞了出去

D.没戴眼罩的鸟和右眼戴眼罩的鸟顺利从笼中飞了出去, 左眼戴眼罩的鸟朝哪个方向飞的都有

33. 美国伊利诺伊大学 3 日发布一项新研究说, 21 个月大的幼儿就能区分出不同角色的人物。该校研究人员开发了一组动画片, 里面的卡通人物分别扮演成领导者、霸凌者和第三者。领导者和霸凌者分别向第三者发号施令, 第三者都照做了。当领导者或霸凌者离开后, 第三者违抗领导者命令时, 幼儿会发现并注视更久, 违抗霸凌者命令则不会引起幼儿注意。

以下哪项如果为真, 最能削弱该研究的结论:

- A. 8 个月时, 婴儿脑部神经活动日益频繁, 成了婴儿认知能力的分水岭
 - B. 部分幼儿可能并没有理解领导者和霸凌者分别向第三者发号施令的含义
 - C. 卡通人物违抗领导者和霸凌者的命令时做出的动作是不一样的
 - D. 当第三者违抗领导者命令时幼儿注视更久是因为违反了幼儿自身“应遵守领导者命令”的预期
34. 张明、李英、王佳和陈蕊四人在一个班组工作, 他们来自江苏、安徽、福建和山东四个省, 每个人只会说原籍的一种方言。现已知福建人会讲闽南方言, 山东人学历最高且会说中原官话, 王佳比福建人的学历低, 李英会说徽州话并且和来自江苏的同事是同学, 陈蕊不懂闽南方言。

根据以上陈述, 可以得出以下哪项?

- A. 陈蕊不会讲中原官话
 - B. 张明会讲闽南方言
 - C. 李英是山东人
 - D. 王佳会说徽州话
35. 为什么猫爱吃老鼠? 之前有观点认为, 这只时间上的“巧合”——猫是夜行动物, 老鼠也喜欢在夜晚出没, 而其他可供猫捕食的动物往往在“家”中休息, 慢慢的这两个种族就形成了猫吃老鼠这种自然规律。但是德国科学家研究表明, 猫是夜行动物, 为了在夜间能看清事物, 它们的身体里需要一种叫作牛磺酸的物质, 正好牛磺酸在老鼠体内的含量尤为丰富。所以, 老鼠成了猫最爱的美食。

以下哪项如果为真, 最不能加强该研究的结论:

- A. 猫也很爱吃鱼, 鱼肉中的牛磺酸含量也很丰富
 - B. 牛磺酸可以有效提高神经传导和视觉技能, 可使猫科动物保持锐利的视觉
 - C. 猫体内不能合成牛磺酸, 所以必须通过外界食物来保证夜视能力
 - D. 敏捷度及体型上的优势, 让猫吃老鼠成了生物链上不可逆的一环
36. $1^2+2^2+3^2+\dots+2019^2$ 的尾数是 ()。
- A. 3
 - B. 5
 - C. 1
 - D. 0
37. 10 个人围成一圈玩报数游戏。游戏规则为: 如果上个人报的数是一位数, 后面的人就要报出这个数与 8 的和; 如果上个人报的数是两位数, 后面的人就要报出这个数的个位数与 7 的和。现在让第一个人报 1, 那么第十轮的第五个人应该报的数是 ()。

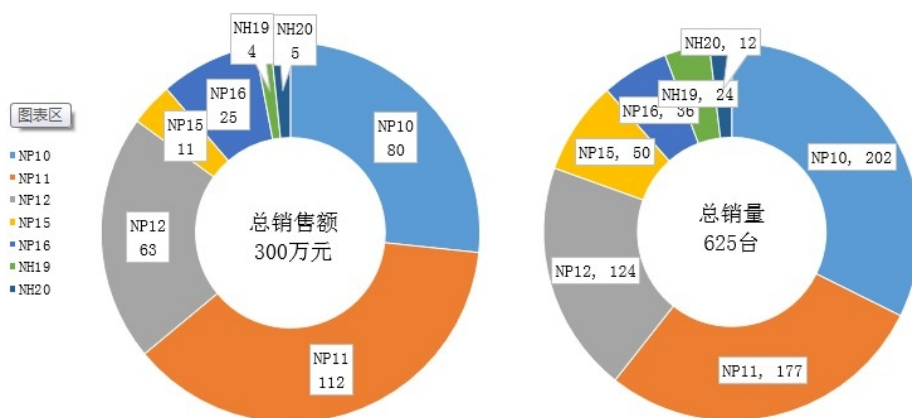
- A. 16
- B. 13
- C. 10
- D. 8

38. 甲、乙、丙、丁、戊五个人在夜里过桥,只有一盏灯,有灯才能过桥。该桥每次最多过两个人,并且两人过桥时间以慢者为准。已知 5 个人的过桥时间分别为:3 秒、5 秒、6 秒、8 秒、12 秒。则 5 个人至少需要 () 秒才能全部过桥。
- A.39 B.40 C.37 D.38
39. $72 \times 62 \times 52 \times 42 \times 32 = ()$ 。
- A.174652782 B.226985332
C.367244902 D.311980032
40. $11237686.34 + 19275619.35 + 32415593.06 + 28997509.09 + 32257985.22 = ()$ 。
- A.124814955.06 B.123552738.06
C.123776532.06 D.124184393.06
41. 一个三位数的各位数字之和为 20,其中十位数字比个位数字大 2。如果把这个三位数的百位数字和个位数字对调一下,得到的新的三位数比原数字小 297,则原来的三位数是 ()。
- A.875 B.497 C.686 D.864
42. 某班级共有 30 人,在某次月考中,有 12 人英语满分,8 人数学满分,10 人语文满分。则至多有 () 人两个科目获得满分。
- A.12 B.10 C.14 D.15
43. $7.2 \div 1.5 \times 4.5 \div 2.7 \times 0.75 \div 1.8 \times 3.6 \div 1.5 \times 8.1 \div 0.18 = ()$ 。
- A.367 B.368 C.360 D.364
44. 英语期末考试分为翻译和阅读两个部分。每个部分都准备了若干份不同的考试题目都不止 1 份)。每人考试时随机抽取每部分的试题。考完之后,同寝室的 10 个同学讨论答案,发现任意两个人之间所拿到的题目都不完全相同。则该次英语考试翻译部分和阅读部分准备的不同试题份数之和至少为 ()。
- A.6 B.5 C.7 D.8
45. $64 \times 61 \times 76 - 53 \times 54 \times 72 + 76 \times 75 \times 74 \times 73 \times 72 = ()$ 。
- A.2217071262 B.2217071351
C.2217071173 D.2217071440
46. 政府计划投资 1500 万元修建若干个养老院,已知修建一个大型养老院需要 80 万,能给 50 个老人提供养老服务,修建一个小型养老院花费 50 万,能给 30 个老人提供养老服务。考虑到实际因素,修建大型养老院的数量不少于小型养老院的 2 倍,并且不多于小型养老院的 4 倍,则这批养老院最多可以修建 () 个。
- A.21 B.20 C.22 D.23



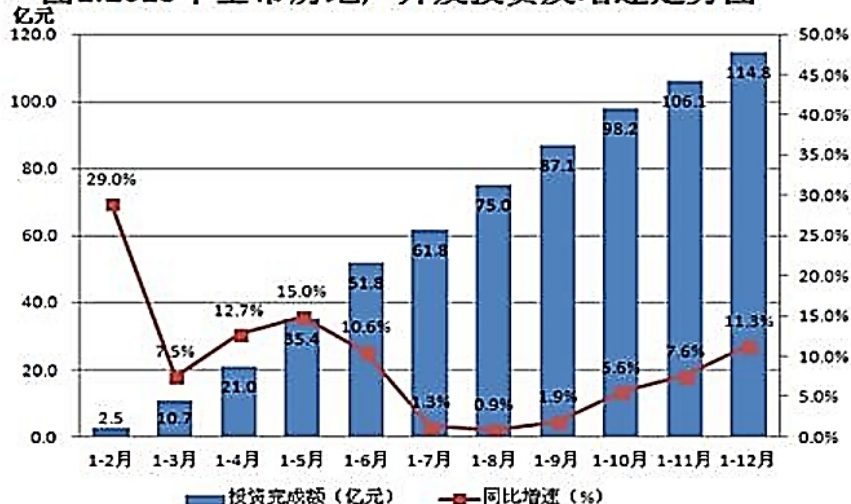
47. 计算机学院的 191 名同学和软件学院的 216 名同学要参观某科技公司。为了安全起见，要求分批次参观，每次参观人数相同，并且尽可能减少参观批次。如果有且仅有一批参观人员同时包含计算机院和软件院的同学，则该批次中包含（ ）名来自计算机学院的同学。
- A.11 B.15 C.6 D.21
48. 某学院邀请行业专家来校开展大学生职业生涯规划指导讲座，已知讲座报名人数有 196 人，讲座开始前十分钟，发现除了报名的 196 人之外，还有一些同学是来旁听的，总人数超过 200 人。如果一排坐 7 个人，则多出 5 个人；如果非坐 8 个人，则多出 7 个人；如果一排坐 9 个人，则多出 8 个人。则来旁听的人数至少占总人数的（ ）。
- A.高于 15% B.10%~15% C.5%~10% D.低于 5%
49. 如果今天是星期三，则 20242024 天后是星期（ ）。
- A.一 B.二 C.三 D.四
50. 平台上有编号 1-20 的灯共 20 盏，各有接线开关控制着，开始时，它们都是关闭状态。现有 20 个学生，第 1 个学生进来时，凡号码是 1 的倍数的开关都拉了一下。接着第二个学生进来，把号码是 2 的倍数的开关拉一下，第 n 个 ($n \leq 20$) 学生进来，凡号码是 n 的倍数的开关拉一下，如此下去，最后一个学生进来，把编号是 20 的倍数的电灯上的开关拉了一下，这样做过之后，请问处于亮着的状态中的灯的编号，最大值与最小值之间的差分别是多少？（ ）。
- A.16 B.15 C.14 D.13

2015年不同型号产品销量销售额对比图



	NF16	NF15	NP12	NP11	NP10	NH19	NH20
最小值	-41%	-42%	42%	-12%	36%	9%	16%
最大值	-29%	18%	80%	65%	36%	43%	61%
平均利润率	-36%	5%	63%	29%	36%	17%	61%

- 2018 年，全市房地产开发投资完成 114.8 亿元，同比增长 11.3%，增速比上年加快 5.5 个百分点，全年增速总体呈平稳趋势，投资总量超过 2015 年 112.6 亿元水平，创历史新高。房地产开发投资占全市固定资产投资比重为 28.4%，比上年提高 10.6 个百分点，拉动全市固定资产投资增长 2.0 个百分点。

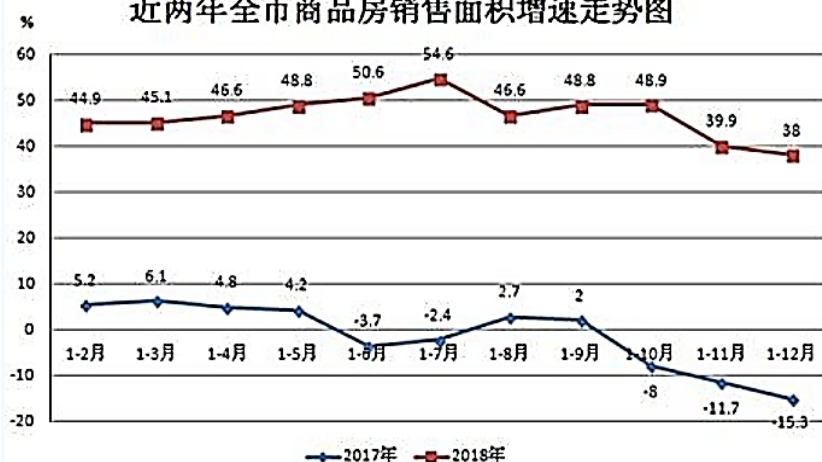
图1:2018年全市房地产开发投资及增速走势图

分房屋类型看，2018年，全市住宅投资81.8亿元，比上年增长5.1%，增速比上年回落9个百分点，占全市房地产开发投资的比重下降2.3个百分点；办公楼投资1.9亿元，下降6.7%；商业用房投资25.6亿元，增长69.7%，占全市房地产开发投资的比重由上年的14.6%提高到22.3%，对全市房地产开发投资增长的贡献率高达90%。

2018年，全市计划总投资5亿元以上房地产项目43个，比上年增加7个，增长22.9%，计划总投资达392.4亿元，比上年增加78.9亿元，增长25.2%，完成投资59.8亿元，比上年增加8.5亿元，增长16.5%，占全市房地产开发投资的比重由上年同期的49.8%提高到52.1%，拉动全市房地产开发投资增长8.2个百分点。

2018年，全市商品房销售面积184.7万平方米，比上年增加50.9万平方米，其中，商品住宅销售面积177.3万平方米，比上年增长38.8%。从住宅结构看，90平方米及以下（含90平方米）普通住宅销售面积19.4万平方米，增长21.7%，占住宅销售面积的10.9%；90-144平方米（含144平方米）普通住宅销售面积128.8万平方米，增长37.3%，占住宅销售面积的72.7%；144平方米以上普通住宅销售面积29.1万平方米，增长62.3%，占住宅销售面积的16.4%。

截止2018年末，全市商品房待售面积87.6万平方米，以2018年月均商品房销售面积为基数（15.4万平方米），商品房待售面积去化周期为5.7个月，比2017年末减少1个月。

近两年全市商品房销售面积增速走势图

56. 2016-2018年，三年期间该市地产开发投资额完成共约（ ）亿元。

A.295

B.315

C.402

D.543

57. 2018 年, 该市固定资产投资额约为 () 亿元。
- A.356.2 B.512 C.404.2 D.208
58. 根据材料, 下列说法正确的一项是 ()。
- A.2018 年, 全市住宅投资占全市房地产开发投资的比重约是 71.3%, 去年同期约是 73.6%
- B.2018 年全年看, 2 月份该市地产开发投资额同比增速最高, 为 29.0%, 7 月份最低, 为 1.3%
- C.2015 至 2018 年, 该市地产开发投资完成额从大到小排列依次是 2018 年、2015 年、2016 年、2017 年
- D.2017、2018 年两年期内, 该市计划总投资额 5 亿元以上的房地产项目共计 79 个, 计划总投资额超过 710 亿元
59. 下列关于 2018 年该市商品房销售面积的说法中, 不正确的一项是 ()。
- A.全年销售面积同比增长 38%, 比前三季度回落 10.8 个百分点
- B.全年商品住宅销售面积占商品房销售面积的比重超过 90%
- C.全年销售面积环比增长-15.3%, 比前三季度回落 17.3 个百分点
- D.全年住宅销售中, 户型面积在 90-144 平方米是销售主力品类
60. 根据资料, 可以推知下列说法中正确的个数是 ()。
- (1) 2018 年, 该市房地产投资增速总体平稳, 投资总量创三年来历史新高
- (2) 2018 年, 该市房地产投资结构持续优化, 特别是商业营业用房投资高速增长
- (3) 2018 年, 该市房地产投资中, 计划投资额超过 5 亿元的大项目拉动作用明显
- A.3 B.2 C.0 D.1
61. 中国共产党第十九届中央委员会第五次全体会议, 于 2020 年 10 月 26 日至 29 日在北京举行, 全会指出, 我国粮食年产量连续五年稳定在 () 以上。
- A.三万三千亿斤 B.二万三千亿斤
- C.一万三千亿斤 D.一万九千亿斤
62. 2020 年 11 月 4 日, 国家主席习近平在中国国际进口博览会开幕式上的主旨演讲说到, 我们要坚持合作共赢理念, 信任而不是猜忌, 携手而不是挥拳, 协商而不是谩骂, 以各国共同利益为重, 推动经济全球化朝着更加 ()、()、()、()、() 的方向发展。
- A.开放、大度、普惠、平衡、共进
- B.团结、包容、普惠、平等、共赢
- C.开放、包容、普惠、平衡、共赢
- D.团结、包容、普惠、平等、共进
63. 国家主席习近平指出, 坚持总体国家安全观, 必须坚持国家利益至上, 以 () 为宗旨, 以 () 为根本, 以 () 为基础。



- A.人民安全 政治安全 经济安全
B.文化安全 人民安全 科技安全
C.制度安全 政治安全 科技安全
D.人民安全 制度安全 经济安全
64. 2020 年 12 月 16 日至 18 日，中央经济工作会议在北京举行，会议指出，2021 年（ ）要保持连续性、稳定性、可持续性。
- A.微观政策 B.宏观政策
C.财政政策 D.货币政策
65. （多选）2021 年 3 月，《国务院政府工作报告》指出，今年要保持宏观政策连续性稳定性可持续性，促进经济运行在合理区间。以下表述正确的有（ ）。
- A.积极的财政政策要提质增效、更可持续
B.优化和落实减税政策
C.稳健的货币政策要灵活精准、合理适度
D.就业优先政策要继续强化、聚力增效
66. 中共中央政治局常务委员会 2020 年 12 月 3 日召开会议，会议指出要保持帮扶政策总体稳定，严格落实“四个不摘”要求，保持现有帮扶政策、资金支持、帮扶力量总体稳定。“四个不摘”是指（ ）。
- A.摘帽不摘责任 摘帽不摘政策 摘帽不摘帮扶 摘帽不摘监管
B.摘贫不摘政策 摘贫不摘政策 摘贫不摘帮扶 摘贫不摘监管
C.脱贫不摘帮扶 脱贫不摘政策 脱贫不摘帮扶 脱贫不摘监管
D.摘帽不摘资金 摘帽不摘教育 摘帽不摘政策 摘帽不摘管理
67. 国家主席习近平二〇二一年新年贺词指出，“大道不孤，天下一家。”从中国的文化视角看，这句话与下列（ ）的关系最大。
- A.儒家与道家 B.法家与阴阳家
C.法家与墨家 D.兵家与墨家
68. 《中华人民共和国著作权法》（2020 年修正），2020 年 11 月 11 日发布，自（ ）实施。
- A.2021 年 1 月 1 日 B.2020 年 12 月 30 日
C.2021 年 6 月 1 日 D.2021 年 3 月 1 日
69. 2021 年 2 月 19 日，国家主席习近平在主持召开中央全面深化改革委员会第十八次会议时指出，完整准确全面贯彻新发展理念，发挥（ ）在构建新发展格局中关键作用。
- A.党的领导 B.改革

C.国内大循环

D.国内国际双循环

70. 2021 年中央一号文件指出，在实现巩固拓展脱贫攻坚成果同乡村振兴有效衔接方面采取的措施不包括（ ）。
- A.设立衔接过渡期
B.持续巩固拓展脱贫攻坚成果
C.接续推进脱贫地区乡村振兴
D.加强农村低收入人口常态化帮扶
71. 习近平总书记重要文章《坚定不移走中国特色社会主义法治道路，为全面建设社会主义现代化国家提供有力法治保障》指出，要推进全面依法治国，全面依法治国的前提是（ ）。
- A.科学立法、严格执法、公正司法、全民守法
B.依法治国、依法执政、依法行政共同推进
C.法治国家、法治政府、法治社会一体建设
D.依宪治国
72. 截至 2021 年 1 月 3 日 6 时，“天问一号”探测器已经在轨飞行 163 天飞行里程突破 4 亿公里，距离地球约 1.3 亿公里，距离火星约 830 万公里。“天问一号”命名与（ ）有关。
- A.李白 B.屈原 C.杜甫 D.后裔
73. 在某国有银行上班的邓某还未等自己的孩子出生就因新冠肺炎离世，留下巨额财产。关于邓某未出生的胎儿继承权问题，以下说法正确的是（ ）。
- A.邓某未出生的胎儿没有继承权
B.邓某未出生的胎儿有继承权
C.邓某未出生的胎儿若出生时为死体，也有继承权
D.不论邓某未出生的胎儿出生时是否为死体，都没有继承权
74. 以下关于股权或股份转上的相关表述不正确的一项是（ ）。
- A.有限责任公司的股东之间可以相互转让其全部或者部分股权
B.股东向股东以外的人转让股权，应当经其他股东 2/3 以上多数同意
C.股份有限公司的发起人持有的本公司股份，自公司成立之日起一年内不得转让
D.股份有限公司公开发行股份前已发行的股份，自公司股票在证券交易所上市交易之日起一年内不得转让



75. 直线型组织结构又称单线型组织结构,是最古老、最简单的一种组织结构类型,其特点是组织系统职权从组织上层“流向”组织基层。上下级关系是直线关系,即命令与服从的关系。下列关于直线型组织结构的说法中,错误的是()。
- A.信息流通迅速,利于民主决策
B.权责明确,管理成本低
C.联系便捷,易于适应环境变化
D.结构简单,命令统一
76. 最新修订的《中国工商银行牡丹信用卡章程》及领用合约自()起正式实施。
- A.2021年3月1日
B.2021年6月1日
C.2021年4月19日
D.2021年1月1日
77. 以下关于工商银行的相关表述不正确的一项是()。
- A.工商银行24小时贵宾服务专线是4008895558
B.工商银行24小时全国服务热线为95588
C.工商银行成立于1984年1月1日
D.2020年9月28日,工商银行入选2020中国企业500强榜单,排名第五
78. 随着航天技术的不断发展,人类对宇宙的认识在不断进步。以下关于人类航天史的相关表述不正确的一项是()。
- A.第一颗进入地球轨道的人造卫星是斯普特尼克一号
B.世界上第一个踏上月球表面的人是阿姆斯特朗
C.世界上第一架航天飞机是哥伦比亚号
D.世界上第一座空间站是“东方一号”
79. 物理常识在日常生活中的运用极其普遍,以下关于声学的相关表述不正确的一项是()。
- A.织女在月球上听到牛郎大声地说“我爱你”
B.一般情况下,声音的传播速度固体>液体>气体
C.声音在传播的过程中遇到障碍物返回来的现象称之为声音的反射
D.声音可以在固体、液体和气体中传播
80. 以下关于三国时期的帝王将相或重要人物相关表述不符合历史的是()。
- A.曹操参加官渡之战、赤壁之战
B.刘备三顾茅庐、建蜀汉
C.诸葛亮乐不思蜀
D.曹子建才高八斗

81. She got her degree successfully as her university _____ was on Marina Tsvetacva, a poet then in deep official disfavor.
A. dissertation B. paradox C. hypothesis D. conclusion
82. She and another woman were convicted in 2005 of tax _____ but were released under an amnesty.
A. erosion B. enclosure C. exception D. evasion
83. Our research has focused on a drug which is so _____ as to be able to change brain chemistry.
A. powerful B. influential C. monstrous D. vigorous
84. The new secretary has written a remarkably _____ report only in a few pages but with all the details.
A. concise B. clear C. precise D. Elaborate
85. Everyone should be _____ to a decent standard of living and an opportunity to be educated.
A. attributed B. entitled C. identified D. justified

Passage 1

Dear Mr. Camarra,

I understand you are looking for a “Girl Friday”— someone to take control of the critical administrative and customer service function at your location in Pinehurst, Ontario. If you’re looking for a motivated and hardworking professional with an above-average performance record, outstanding interpersonal skills, and a “get it done” attitude, I think you’ve found the best person for the job.

Over the past few years, while working for Group Six Security, I have routinely met with your company’s representatives. From this contact, I have gained an understanding of the work that you do and an appreciation for your need for strong administrative support. In my current role with TGO Consulting, I do just that: managing all critical administration for the company and supporting the activities of 30 consultants and project managers.

I invite you to review my attached resume, which details the skills and experience I offer. Highlights include:

1. Strong communication and interpersonal skills — personable and friendly, with the ability to work well with colleagues, superiors, clients, and vendors
2. Extensive administrative and office support skills — includes invoice, billing, scheduling, A / P and A / R, file management, and date entry
3. Outstanding customer service — Edward-winning performance providing friendly and effective customer service in both corporate and retail environments

4. Self-motivated and hardworking — personally love challenges, extremely quick learner, and motivated to exceed expectations

I believe that my strong skills and solid work ethic would make a significant contribution to your team, and I would welcome the opportunity to meet in person to discuss this position and why I believe I am the strongest candidate you will see.

Thank you for your consideration. I will contact you soon to arrange a personal interview.

Purdeep Mehta

86. Which of the following words is INCORRECT in describing Purdeep Mehta?

- A. Proactive. B. Perseverant C. Experienced. D. Arrogant.

87. What does “Girl Friday” in paragraph 1 mean?

- A. A staff that is in charge of the critical administrative and customer service.
B. A girl who will work on Friday.
C. A staff that supports the consultants and managers’ activities.
D. A girl who is responsible for the security.

88. It can be inferred from the passage that _____.

- A. Purdeep Mehta and Mr. Camarra have known each other for a while.
B. Purdeep Mehta often observes the staff’s working conditions to learn about the job.
C. Purdeep Mehta not satisfied with her current role with TGO Consulting.
D. Puedeep Mehta learns about the duty of the job because she has met the company’s employees in the past.

89. Which of the following is NOT a skill that Purdeep Mehta has?

- A. Office support skills.
B. Strong communication skills.
C. Outstanding customer service.
D. Strong calculation ability.

90. What dose Purdeep Mehta expect after Mr. Camarra receives her cover letter?

- A. A greeting. B. A thank-you letter. C. A job offer. D. A personal meeting.

passage 2

Good listening is much more than being silent while the other person talks. To the contrary, people perceive the best listeners to be those who periodically ask questions that promote discovery and insight. These questions gently challenge old assumptions, but do so in a constructive way. Sitting there silently nodding does not provide sure evidence that a

person is listening, but asking a good question tells the speaker the listening was consistently seen as a two-way dialogue, rather than a one-way “speaker versus hearer” interaction. The best conversations were active.

Good listening included interactions that build a person’s self-esteem. The best listeners made the conversation a positive experience for the other party, which doesn’t happen when the listener is passive (or, for that matter, critical!). Good listeners made the other person feel supported and conveyed confidence in them. Good listening was characterized by the creation of a safe environment in which issues and differences could be discussed openly.

Good listening was seen as a cooperative conversation. In these interactions, feedback flowed smoothly in both directions with neither party becoming defensive about comments the other made. By contrast, poor listeners were seen as competitive --- as listening only to identify errors in reasoning or logic, using their silence as a chance to prepare their next response. That might make you an excellent debater, but it does not make you a good listener. Good listeners may challenge assumptions and disagree, but the person being listened to feels the listener is trying to help, not wanting to win an argument.

91. When a listener asks constructive questions, it means _____.
A. he is listening carefully
B. he is getting bored of nodding
C. he wants to make the dialogue stop
D. he wants to challenge the speaker
92. According to the author, which of the following statements is true?
A. Good listener should agree with the speaker.
B. If you give creative opinions, the speaker will be less confident.
C. If the speaker creates a comfortable environment, listeners will become confident.
D. Those who periodically ask questions want to take charge of the conversation.
93. According to the passage, a good listener would NOT _____.
A. response B. disagree with the speaker
C. be silent D. use logic
94. The main purpose of the passage is to _____.
A. explain what would happen if speakers are boring
B. analyze the behavior of good listeners
C. encourage listeners to help the other person to see the conversation in a new light
D. tell readers to be good listeners



95. Which could be the title of this passage?
- A. What Makes Listening Attractive?
 - B. How to Train Your Audience?
 - C. What Do Good Listeners Do?
 - D. How to Become a Good Collaborator?

passage 3

Faces, like fingerprints, are unique. Did you ever wonder how it is possible for us to recognize people? Even a skilled writer probably could not describe all the features that make one face different from another. Yet a very young child — or even an animal, such as a pigeon — can learn to recognize faces. We all take this ability for granted.

We also tell people apart by how they behave. When we talk about someone's personality, we mean the ways in which he or she acts, speaks, thinks and feels that make that individual different from others.

Like the human face, human personality is very complex. But describing someone's personality in words is somewhat easier than describing his face. If you were asked to describe what a nice-face looked like, you probably would have a difficult time doing so. But if you were asked to describe a nice person, you might begin to think about someone who was kind, considerate, friendly, warm, and so forth.

There are many words to describe how a person thinks, feels and acts. Gordon Allports, an American psychologist, found nearly 18,000 English words characterizing differences in people's behavior. And many of us use this information as a basis for describing, or typing, his personality. Bookworms, conservatives, military types — people are described with such terms.

People have always tried to type each other. Actors in early Greek drama wore masks to show the audience whether they played the villain's or the hero's role. In fact, the words "person" and "personality" come from the Latin "persona", meaning mask. Today, most television and movie actors do not wear masks. But we can easily tell the good guys from the bad guys because the two types differ in appearance as well as in actions.

96. What is the main idea of this passage?
- A. Ways to distinguish people both inward and outward.
 - B. Ways to describe people's personalities.
 - C. Ways to differ good people from bad people.
 - D. Ways to distinguish people's faces.
97. The author is most probably a _____.
A. writer B. psychologist C. sociologist D. behaviorist

98. What is the meaning of the underlined word “considerate” in the passage?
- A. Careful B. Numerous C. Open-minded D. outgoing
99. Which of the following is NOT true?
- A. People can learn to recognize faces.
- B. People differ from each in appearance.
- C. People can describe all the features of others.
- D. Different people may have different personalities.
100. We learn from the passage that people classify a person into certain type according to _____.
- A. his learning and behavior
- B. his way of speaking and behaving
- C. his physical appearance and his personality
- D. his way of acting and thinking

第四部分 综合知识

101. 根据凯恩斯流动性偏好理论，投机性需求由（ ）决定。
- A.利率 B.收入 C.消费 D.储蓄
102. 两家银行 USD/CNY 报价分别为：A 银行 6.1500-6.2100，B 银行 6.1600-6.2150，小明为出国留学准备购买 2 万美元，他至少需要准备人民币（ ）。
- A.12.30 万元 B.12.42 万元 C.12.32 万元 D.12.43 万元
103. 以下不属于直接融资的是（ ）。
- A.商业信用 B.国家信用 C.消费信用 D.银行信用
104. 牙买加协定的主要内容不包括（ ）。
- A.各成员国在写上的基础上选择同一的汇率制度
- B.国际储备多元化：美元、日元、黄金、特别提款权等
- C.取消黄金官价，黄金非货币化，按市价自由交易
- D.取消汇率平价和美元中心汇率，确认浮动汇率制
105. 如果消费者动用活期存款进行消费，货币构成将发生的变化是（ ）。
- A.M1 减少，M2 增加 B.M1 减少，M2 减少
- C.M2 不变，M1 减少 D.M2 不变，M1 增加

106. ENIAC 计算机所采用的逻辑器件是（ ）。
- A.电子管
 - B.晶体管
 - C.中小型集成电路
 - D.大规模及超大规模集成电路
107. 在比特币中，关于区块链的说法哪个是正确的？（ ）
- A.拥有比特币的公司的合称
 - B.承载比特币的软件
 - C.用比特币打造的金项链
 - D.记录所有比特币交易的时间戳账簿
108. 云计算的特性包括（ ）。
- 1.简便的访问
 - 2.高可信度
 - 3.经济型
 - 4.按需计算与服务
- A. 1 个 B. 2 个 C. 3 个 D. 4 个
109. 下面哪一部分不属于物联网系统？（ ）
- A.传感器模块
 - B.处理器模块
 - C.总线
 - D.无线通信模块
110. 关于 TCP/IP 参考模型的描述中，正确的是（ ）。
- A.用七层网络体系结构
 - B.传输层只提供 TCP 服务
 - C.物理层是参考模型的最高层
 - D.互联层的核心协议是 IP 协议
111. 关于 IPv4 地址和 IPv6 地址的描述中，正确的是（ ）。
- A.IPv4 地址和 IPv6 地址都为 32 位
 - B.IPv4 地址为 32 位，IPv6 地址为 128 位
 - C.IPv4 地址和 IPv6 地址都为 128 位
 - D.IPv4 地址为 128 位，IPv6 地址为 32 位
112. 在计算机网络中，为了使计算机或终端之间能够正确传送信息，必须按照（ ）来相互通信。
- A.信息交换方式 B.网卡 C.传输装置 D.网络协议

113. 数据库是计算机系统中按一定的数据模型组织、存储和使用的（ ）。
- A.命令集合 B.程序集合 C.数据集合 D.文件集合
114. （ ）的实质是一种条件的控制，病毒程序可以根据设计者的要求，在一定条件下实施攻击。
- A.潜伏 B.隐蔽 C.触发 D.传染
115. 下列选项中，（ ）是将单个计算机连接到网络的设备
- A、显示卡 B、网卡 C、路由器 D、网关
116. 下列各项中，不属于会计监督的内容的是（ ）。
- A.财务收支的合理性审查 B.不定期进行的财产清查
- C.经济业务的合法性审查 D.经济业务的真实性审查
117. 下列有关会计主体的表述中，不正确的是（ ）。
- A.会计主体是指会计所核算和监督的特定单位和组织
- B.会计主体界定了从事会计工作和提供会计信息的时间范围
- C.由若干具有法人资格的企业组成的企业集团也是会计主体
- D.会计主体界定了从事会计工作和提供会计信息的空间范围
118. 下列对重要性的表述不正确的是（ ）。
- A.对于重要的会计事项，必须按照规定的会计方法和程序进行处理，并在财务报告中予以充分、准确地披露
- B.对于次要的会计事项，在不影响会计信息真实性和不至于误导财务报告使用者作出正确判断的前提下，可适当简化处理
- C.要求企业提供的会计信息应当反映与企业财务状况、经营成果和现金流量有关的所有重要交易或者事项
- D.在评价某些项目的重要性时，不应依赖于会计人员的职业判断
119. 下列做法中，不能体现谨慎性要求的是（ ）。
- A.鉴于本期经营亏损，将已达到预定可使用状态的工程借款的利息支出予以资本化
- B.对固定资产采用年数总和法计提折旧
- C.对本期销售的商品很可能发生的保修义务确认预计负债
- D.对应收账款计提坏账准备
120. 账户的左方和右方，哪一方登记增加额，哪一方登记减少额，取决于（ ）。

- A.所记经济业务的重要程度
- B.开设账户时间的长短
- C.所记金额的大小
- D.所记录的经济业务和账户的性质

阅读下面资料，并据此回答 121—125 题。

2020年3月初，随着石油输出国减产协议未达成，沙特率先增加产量，将国际油价一路拉低。

随着油价下降，沙特将挤占美国页岩油和俄罗斯原油的市场份额，因为这两个国家的石油开采成本远高于沙特。沙特看似受损，其实有利可图。

随着国际石油价格快速下降，国内成品油价格也开始下调。但随着国际石油价格跌破每桶40美元，国内成品油价格也调整至相应价格，不再下调。

这是因为我国有一套成品油定价机制。

我国的成品油价格机制有设定好的上下限，上限为每桶130美元，下限是每桶40美元。从历史情况看，2016年1月至4月份，国际油价下跌，触动了国内成品油价格调控下限，当时按照机制在40美元以下部门也未作调整。

由于国际油价下调获得成品油出售收益并不是直接留给企业作为收入，而是全部纳入风险准备金，全额上缴中央国库纳入一般公共预算管理，统筹用于节能减排、提升油品质量，保障石油供应安全，以及应对国际油价大幅波动，实施保障的资金来源。

成品油设定上下限价格是出于对价格机制调节的补充设计的。我国是石油进口和消费大国，成品油价格剧烈波动，过高、过低对经济生活都不利。价格过高，会加大用油行业和消费者负担，过低，会影响国内原油开采行业的正常运行，削弱自给能力，不利于保障国内能源安全。

121. 设定最高价格的理由之一是价格过高会加大用油行业和消费者负担，从这一点出发看，国内成品油的需求弹性（ ）。
- A.较小
 - B.难以判断
 - C.较大
 - D.中等
122. （多选题）在国际油价超过每桶 130 美元时，从理论上分析成品油最高限价机制将导致（ ）。
- A.黑市成品油交易增多
 - B.成品油质量下降
 - C.成品油供应短缺
 - D.凭条件配给，减少排队抢购现象
123. 在经济学中，价格机制被称为（ ）。
- A.休谟的剃刀
 - B.蛛网理论
 - C.看不见的手
 - D.李嘉图恶习
124. 沙特拉低国际油价的策略属于（ ）。
- A.成本导向定价
 - B.需求导向定价
 - C.掠夺性定价
 - D.竞争导向定价

A.信息不足，难以判断

B. $M=N$

C. $M>N$

D. $M<V$

A.只有(1)和(2) B.只有(1)

C.只有 (3)

D.只有 (2)

128. 古董采取升价拍卖, 而花卉采取降价拍卖, 这是因为 ()

A.古董可以久放而花卉必须尽快消费

B.古董边际收益比花卉高

C.古董价格比花卉高

D.古董是制成品而花卉是自然品

129. (多选题) 相对传统供求双方协商确定购买花卉的方式, 降价拍卖的经济学好处是 ()。

A.增加了整个花卉交易市场上的有效信息

B.降低供求双方的交易成本

C.增加了市场上花卉的供给量

D.降低了市场上花卉的价格

130. 降价式拍卖证明了 ()。

A.价格形成是供求双方心理博弈的结果

B.在市场价格大于均衡价格时, 生产者会压低价格以出售商品

C.商品价格下跌是生产过剩的必然结果

D.均衡价格需要依赖供求双方在竞争中自发形成

阅读下面资料, 并据此回答 131—135 题。

2020年3月1日起, 个人住房贷款定价基准转换为LPR加减点工作开启。是LPR加减点, 还是固定利率, 购房者需要二选一。很多人一头雾水。

其实, 个人购房从银行贷款时, 贷款利率是基于基准利率给出的, 或是打折, 或是上浮。这次转换, 涉及的就是“基准利率”。LPR, 全称“贷款市场报价利率”, 是央行综合18家商业银行市场报价形成的贷款市场利率。

小刘的房贷是10年, 基准利率是4.9%, 实际执行利率是3.43%。如果选择固定利率, 那么在合同期内, 都是3.43%。如果选择LPR呢? 参照5年期以上LPR值4.8%, 则是在这个基础上减去137个基点, 加点数值为“-137”。也就是说在合同期内, 小刘的房贷实际执行利率是“5年期以上LPR-1.37%”。

需要注意的是, 虽然五年期以上LPR每月20日会公布一次, 但房贷利率调整周期一般是1年。这两种方式各有优劣, 具体要看借款人自己的判断。实际上, 随着我国利率市场化改革的深入, 利率变动越来越贴近市场情况。这次LPR调整, 也不单单是个人房贷, 还涉及到企业贷款, 个人消费贷等。

131. 从金融学角度看, LPR 的实质是 ()。

A.借贷资本的使用成本

B.借贷资金的单位使用价格

C.存款资金的单位使用价格

D.存款资金的使用成本

132. (多选题) 根据凯恩斯的研究, LPR 数值变动直接受哪些因素影响? ()

- A.货币供给 B.预防动机
C.交易动机 D.投机动机
133. 基准利率是贷款利率的参考利率，通过市场机制形成的基准利率是（ ）。
- A.仅含风险溢价水平 B.无风险利率
C.仅含对机会成本的补偿水平 D.低风险利率
134. 小刘预期未来 5 年，市场利率水平的走势是下跌，则他应选择（ ），小李预测是上升，则应选择（ ）。
- A.固定利率，LPR 加减点 B.LPR 加减点，LPR 加减点
C.固定利率，固定利率 D.LPR 加减点，固定利率
135. 有人说，推行 LPR，就是要引导贷款利率下行。那么，LPR 下行短期产生的影响是（ ）。
- A.增加银行用于放贷的资金量 B.银行吸收存款更加便利
C.扩大银行业利差套利空间 D.降低企业支付银行贷款利息负担

阅读下面资料，并据此回答 136—140 题。

2020年3月23日，美联储声明，美联储将根据需求开放式买入国债和机构住房抵押贷款支持证券（MBS），周内每天将购买750亿美元国债和500亿美元的MBS。此外，美联储宣布设立新项目，提供合计3000亿美元的新融资，支持流向雇主、消费者和企业的信贷，还将很快宣布“主体街(Main Street)商业贷款项目”，目的是支持中小型企业贷款。

在此消息刺激下，美股期指盘前在一度触及跌停线之后迅速拉涨。但开盘之后，美股却再度加速下滑。宣布政策后，原油价格一度上涨4%，但之后迅速下挫。VIX指数快速上涨8%。

美国股市一直被视为美国经济的风向标。这一系列的政策组合，无非是为了挽救自新冠疫情爆发后引爆的股市下跌趋势。此前，美联储已经与欧洲央行、日本等9国央行开展了货币互换，上周又扩大了美元互换的范围，将一些新兴经济体纳入进来。但是似乎不管美联储多努力，都无法改变股市走熊的势头。股市下挫的背后，是美国企业信用资质恶化，全球资产价格的暴跌的现实，投资者对“明斯基时刻”的担忧甚嚣尘上。

为了应对当前的局势，特别是美联储开动印钞机的影响，3月26日，中国央行在香港发行期限6个月的总量1000亿元人民币的中央银行票据。这也是年内央行第三次在香港发行央票，加上本次，总量累计4000亿人民币。与此同时，2020年2月份，人民币国际支付份额从1月的1.65%升至2.11%，位列全球第5。这是不是这意味着，基于我国经济的稳定性和可发展性，在新冠病毒大流行的背景下，人民币国际化将迎来契机？

136. 案例中，投资者对“明斯基时刻”的担忧预示着当前美国面临的危机根源上是（ ）。
- A.经济主体债务危机 B.供给过剩危机
C.银行信用危机 D.美元过度流出危机
137. （多选题）危机总会过去，基于案例信息，随着危机缓解，大概率将会发生的经济现象是（ ）。



- A.美元升值
B.黄金价格上涨
C.美元贬值
D.黄金价格下跌
138. 我国人民银行在年内发行 400 亿元央票操作，其政策效果是（ ）。
- A.稳定人民币对美元汇率，避免大幅贬值
B.稳定人民币对美元汇率，避免大幅升值
C.稳定人民币对美元利差，吸引资金流入
D.稳定人民币对美元利差，推动资金流出
139. 根据凯恩斯的理论，已知当前美国的基准利率为零，则在案例情形下，美元需求弹性是（ ）。
- A.等于-1
B.等于 1
C.趋于无限小
D.趋于无限大
140. 2020 年 3 月 23 日美联储一系列政策组合的目的是（ ）。
- A.减少市场上的美元流通数量
B.向市场提供更多美元
C.提高社会总体的需求量
D.提高社会总体的供给量