

2020 国家开发银行行测模拟卷

1. 2017 年中央经济工作会议指出,党的十八大以来,我国经济发展取得_____成就、发生_____变革,为其他领域改革发展提供了重要物质条件。
- A.重大 历史性 B.历史性 重大
C.重大 重大 D.历史性 历史性
2. 以下 不属于习近平总书记关于“三农”工作新理念新思想新战略的主要内容的是:
- A.坚持重中之重战略地位,切实把农业农村优先发展落到实处
B.坚持把推进农业供给侧结构性改革作为主线,加快推进农业农村现代化
C.坚持新发展理念,紧扣我国社会主要矛盾变化
D.坚持保障和改善民生,让广大农民有更多的获得感
3. 2018 年 2 月 2 日是第二十二个“世界湿地日”,2018 年世界湿地日中国主场宣传活动在_____举办。今年世界湿地日的主题为“_____”。
- A.深圳 从上游到下游,湿地连着你和我
B.深圳 湿地——城镇可持续发展的未来
C.广州 湿地——城镇可持续发展的未来
D.广州 从上游到下游,湿地连着你和我
4. 下列社会关系中,属于法律关系的是:
- A.已订婚的小张和小王之间的恋爱关系
B.某女士与其非婚生子之间的母子关系
C.原始社会成员之间的氏族血缘关系
D.小刘和小杨结拜形成的“盟兄弟”关系
5. 我国的民族自治区与我国的特别行政区的共同点主要表现在:
- A.都是我国的地方行政区域并享有自治权
B.都实行一种特殊的政治制度,享有特殊的政策
C.都是根据民族分布的复杂性和经济发展的不平衡性设置的
D.都是在中国共产党的领导下走社会主义道路
6. 甲为了报复乙,将有传染性的病原体投入乙村的水井中,使多位村民中毒,后来甲由于害怕,及时送中毒村民进行医治,村民全部脱险,下列说法中正确的是:
- A.甲构成投放危险物质罪
B.甲构成故意伤害罪
C.甲以危险方法危害公共安全罪
D.甲的行为不构成犯罪
7. 给非环保产品加上环保标志,非绿色食品加上绿色食品标志的行为属于:
- A.商业贿赂行为 B.商业诋毁行为
C.限制竞争行为 D.欺骗性交易行为

8. 一段时期以来,我国出现电力紧张局面,对此国家有关部门采取了“错峰用电,峰谷电价”等措施,即降低低谷电价,鼓励在用电低谷时用电;用电高峰时调高电价,引导企业避让用电高峰期。从经济常识看实行“错峰用电,峰谷电价”:

- ①是自觉运用价值规律的体现
- ②运用了价格杠杆调节资源配置
- ③发挥了宏观调控对资源配置的决定性作用
- ④是解决我国电力紧张局面的根本性措施

A. ①② B. ②③ C. ①②③ D. ①③④

9. 笔、墨、纸、砚的制作历史悠久,历代都有著名的制品和艺人。安徽泾县(旧属宣城郡或宣州)就以出产_____而闻名。

- A. 笔 B. 墨
- C. 纸 D. 砚

10. “阳光大道”原是指通往_____的道路。

- A. 东海 B. 西域 C. 南国 D. 中原

11. 习近平同志在文艺工作座谈会上的重要讲话中,列举了我国名篇佳作如《采薇》《关雎》《天问》《敕勒歌》,其中反映士兵征战生活的是:

- A. 《采薇》 B. 《关雎》 C. 《敕勒歌》 D. 《天问》

12. 下列关于历史人物的说法中,正确的是:

- A. 秦穆公时期,商鞅在秦国进行变法
- B. 韩非系统地提出了“抱法处势,法术势相统一”的观点
- C. 李斯辅佐幼年时期的秦王嬴政处理朝政
- D. 慎到是墨家思想的代表人物

13. 厄尔尼诺现象是一种在世界范围内造成周期性极端天气的气候现象,其表象是发生厄尔尼诺现象时:

- A. 太平洋中、东部海域大范围内海水温度异常升高,海水水位上涨
- B. 太平洋中、东部海域大范围内海水温度异常升高,海水水位下降
- C. 太平洋中、东部海域大范围内海水温度异常降低,海水水位上涨
- D. 太平洋中、东部海域大范围内海水温度异常降低,海水水位下降

14. 我国水能资源分布不均,水能资源最集中的地区是:

- A. 东北地区 B. 中南地区
- C. 西南地区 D. 东部沿海地区

15. 我国南方和北方的地理分界线是:

- A. 乌蒙山—长江 B. 祁连山—黄河
- C. 伏牛山—淮河 D. 秦岭—淮河

16. 北京时间 2011 年 9 月 29 日,“天宫一号”目标飞行器发射后大约 10 分钟,到达了近地点约 200 千米、远地点约 346 千米的轨道。该运行轨道所处大气层的特点是:

- A.气温随高度的增加而递减
- B.对流现象显著，多云雨现象
- C.气流平稳，天气晴朗，有利于航空飞行
- D.存在电离层，可反射无线电波

17. 因特网已经渗透到人们的日常生活、工作、学习和娱乐中，下列关于因特网的描述正确的是：

- A.因特网又被我们称为“新媒体”
- B.网络时代又被人们简称为“e 时代”
- C.主页是一个网站上容纳信息最多的页
- D.上网的网址应在浏览器的链接栏输入

18. 世界自然基金会是世界最大的、经验最丰富的独立性非政府环境保护机构。其使命是遏止地球自然环境的恶化，创造人类与自然和谐相处的美好未来。世界自然基金会的会徽图案是：

- A.白鳍豚 B.金丝猴 C.大熊猫 D.藏羚羊

19. 下列关于雾霾天气的说法 错误的是：

- A.雾霾天气不主张早晚开窗通风，应尽量减少户外活动
- B.应通过补充抗氧化剂，对抗因雾霾进入人体内产生的自由基
- C.发生霾时空气相对湿度不大，形成雾时空气相对湿度常达 100%或接近 100%
- D.发生霾时有效水平能见度小于 5 千米，出现雾时有效水平能见度小于 1 千米

20. 人类面临移植组织、器官短缺的实际困难。转基因动物的问世给人类带来福音。科学家们首选的利用转基因技术为人类提供异种器官移植供体的动物是：

- A.猪 B.猴
- C.狗 D.黑猩猩

21.在人类历史上，科技发明和人工工程曾导致不少“出人意料”、“始料不及”甚至“_____”的结果。如果想少出一些这样的事，我们就应该对大自然始终保持一份_____，在推广新技术、上马新工程之前多一些研究评估，少一些独断专行。

依次填入划横线部分最恰当的一项是：

- A.事与愿违 敬畏 B.事倍功半 谨慎
- C.针锋相对 尊重 D.南辕北辙 克制

22.20 年市场经济改革，把中国经济送上了持续增长的快车道，把在现代化道路上艰苦跋涉的中国人推上了一个高峰。然而，_____，我们一刻都不曾忘记发展中那些“不平衡、不协调、不可持续”的风险隐患；_____，“发展起来以后的问题不比不发展时少”。

依次填入划横线部分最恰当的一项是：

- A.夕惕若厉 如履薄冰 B.防患未然 戒骄戒躁
- C.常备不懈 未雨绸缪 D.居安思危 喜中有忧

23.覆盖全国的高速公路网已经形成，高速铁路网正在迅速形成。中国已经是世界上最大的
人力流动和物资流动国家，过去那种“_____”的产业分工格局已被打破，地区间产业分
工趋向合理；全国范围内的产业链_____迅速推进，高效统一的全国大市场正在形成之中。

依次填入划横线部分最恰当的一项是：

- A.自成一体 整合 B.壁垒分明 升级
C.各自为政 运转 D.条块分割 扩充

24.元代的方回，论诗颇有眼力，而对朱熹的诗却抬举过分，事出反常。这里除了有乡里私心的原因之外，很可能与方“秽德彰闻，依托道学”的隐曲有关，文人既心存依附之念，势必_____。再如，中国古代文论的作者，常常自己就兼作家身份，“文章得失寸心知”，发而为论，时有取长补短或_____的隐衷。

依次填入划横线部分最恰当的一项是：

- A.进退维谷 才短思塞 B.随波逐流 博采众长
C.进退失据 扬长避短 D.骑虎难下 避实就虚

25.在伦敦的日子里，我每天乘着红色的双层巴士在大街上_____，每天都有新发现。一次，在皮卡迪利广场，我又看到读小说的乞丐。在慵懒的夕阳下，那乞丐穿戴齐整，_____地坐在马路旁，面前放着一个供路人扔硬币的碗。他把书放在碗旁的地面上，低着头，用手指指着页面，一行一行地读着。他读得那样认真，身边的车水马龙，周遭的一切_____，似乎都不复存在。

依次填入划横线部分最恰当的一项是：

- A.徘徊 旁若无人 喧哗
B.踟蹰 置若罔闻 喧腾
C.穿行 泰然自若 喧闹
D.穿梭 神情自若 喧嚣

26.“达”意为显贵，无论处在什么样的社会形态和社会阶段，所谓“达者”始终只占少数。如果“穷者”只顾自己的_____，只有占社会成员少数的“达者”才“兼济天下”，那么当今社会的风气不可想象。如果团结互助、志愿服务的社会风气只依靠占少数的“显达”成员来_____，那么和谐社会、社会主义现代化建设只能是_____。

依次填入划横线部分最恰当的一项是：

- A.涵养 承受 梦想
B.修养 承担 空谈
C.教养 负责 幻想
D.素养 负担 空想
E.

27.创新路上，中国科技正不断向各种高度、深度和广度_____。而“精度”的意义在于，它既是科技创新的目标，也是_____科技创新质量的标尺。神九展现的“中国精度”，实质上是创新_____的结果，更是不断追求创新的号角。依次填入划横线部分最恰当的一项是：

- A.拓展 衡量 推动 B.扩大 考量 拉动
C.延伸 丈量 驱动 D.发展 考察 促进

28.中国古代史籍把黄帝和炎帝时期作为中国历史的_____，但是古代文献中对黄帝、炎帝乃至尧舜禹时期的记述均为后代文献的_____，一般认为都属古史传说的范畴，不能作为信史来_____中华文明五千年。

依次填入划横线部分最恰当的一项是：

- A.起源 追忆 验证 B.发端 补记 考证
C.肇始 追述 证明 D.滥觞 补充 考据

29.①因自然气候的变迁、无序的放垦、环境的污染和一些人为的因素，鄂尔多斯的生态环境遭受到严重破坏，这个曾经水草丰美、“风吹草地见牛羊”的富庶之地，其羊绒的品质近年来也在。

②一年一度的端午节，各地的民间习俗同多于异，如悬挂菖蒲艾草、佩香囊、赛龙舟、涂雄黄饮雄黄酒，吃咸蛋吃粽子、尝时令鲜果等，据说这些传统活动可以百病。

填入划横线部分最恰当的一项是：

- A.蜕化 祛除 B.退化 祛除
C.退化 驱除 D.蜕化 驱除

30.真正的信息公开，当然要求政府要在第一时间发布信息，但更重要的是，不能_____信息的发布渠道，而必须尊重媒体多渠道地报道、展现事实，在多元的信息和声音的“竞争”中由公众判断事实在哪里。政府调查的能力有限，可能被假象所_____，所以需要媒体调查的跟进，这对政府的调查是一个有益的信息补充；更重要的是，政府在利益的绑架下，可能会习惯性地瞒报虚报、掩盖事实，这就需要媒体的报道与政府的调查相互_____，从而在信息的竞争和交叉中逼出真相。

填入划横线部分最恰当的一项是：

- A.主导 迷惑 证明 B.垄断 蒙蔽 印证
C.操纵 瞒骗 检验 D.控制 遮掩 验证

31.维也纳浓厚的音乐气氛和丰富的音乐源泉，不仅孕育诞生了许多伟大的音乐作品，还哺育了不少的音乐天才。在音乐史上名垂千古的“交响乐之父”、古典主义音乐的卓越创始人海顿，就是在维也纳谱写了大量的交响乐，从而名扬全球的。和海顿同时代的莫扎特，他的那些流芳百世的作品，基本上也是在维也纳居住的时候谱写的。音乐艺术的一代宗师贝多芬虽然生在德国，却是在维也纳向海顿学习作曲并一举成名的。歌曲之王舒伯特，则完完全全生在维也纳，长在维也纳。

下列说法与这段文字意思不符的一项是：

- A.莫扎特的作品大部分是在维也纳创作的
B.海顿是“交响乐之父”、古典主义音乐的创始人
C.贝多芬在维也纳向海顿学习过作曲
D.生长在维也纳的舒伯特是歌曲之王

32.对于中国的独生子女，“父母的就是我的”这种观念也许很难改变，或许本来就是事实。但问题可能出在“富二代”和“贫二代”这两个词本身，人们按先天不同被贴上了标签，就不容易看清楚一些内在的东西。其实可以靠继承得来的不只是一个光荣的姓氏，更有父辈走过荆棘之路的坚韧和勇气，这一点对穷人和富人的孩子都是一样的。

这段文字表述的观点是：

- A.对坚韧和勇气的继承比财富更有价值
B.中国人更关注家庭出身和背景
C.穷人和富人的孩子其实是平等的
D.“富二代”和“贫二代”有本质的差别

33. 近来虽然有降雨，但气温并没降多少，不少人仍依赖空调过日子，而干眼症也“趁机上位”，让不少年轻人眼睛干涩刺痛。记者近日从多家医院了解到，近来就诊的干眼症患者比以往增多，主要集中在上班族和青少年。专家介绍，干眼症本是中老年疾病，年轻患者增多与电子产品的大量使用以及用眼过度有关。看电脑或电视屏幕，眨眼次数减少，眼睛得不到滋润就易引发干眼症。长时间使用空调、空气干燥也是诱因之一。

从上述文字可知，下列有关“干眼症”的叙述错误的是：

- A. 眨眼次数减少也容易引起干眼症
- B. 使用空调是引起干眼症的诱因之一
- C. 年轻人不会得干眼症
- D. 大量使用电子产品容易引起干眼症

34. 无论是一个民族还是一个国家，它的文化永远不可能是静止的，而是每时每刻都在发生着变化。这种变化有时很慢，几乎让人感觉不到；但在我们这个时代，任何事情都在飞速发展，全世界的文化也正经历着快速而巨大的转变。在这样的时刻，我们面临的最重大问题仍然是：地区或国家的个性和特征是否能抵得住全球化、现代化的侵蚀？回答可以是两种：能或者不能。有的文化可能会被削弱甚至被同化，但是如果我们对这个问题保持警惕，就会减少文化的变化进而得以保存下来。

根据这段文字，作者认为：

- A. 文化转变的趋势是不可逆转的
- B. 全球化的侵蚀使文化同化越来越严重
- C. 变化中的文化应保持自己的个性
- D. 文化应该跟随世界的脚步快速转变

35. 培根曾经说过：“知识就是力量。”而今在信息时代，人们可以说，信息就是力量。信息、传播信息的技术与基础设施、掌握和运用信息技术的能力，构成了全新的权力来源。遍布全球的网络基础设施、持续提升的网络传输速率、日趋完善的移动便携式互联网终端，以及高速扩张的建立在人际关系网络数字化基础上的新媒体运用，使得信息流高速、实时地实现着跨国运动。视频网站与社交网站的出现，又使得那些具有简单化、符号化、碎片化的信息流，更容易被传播、关注，也因此更容易得到响应。能够影响这种信息流动的行为体，其权力会得到增强，反之，则被削弱。

这段文字意在强调，网络信息技术与新媒体运用：

- A. 推动了权力来源要素的重构
- B. 加剧了全球信息资源不均的状况
- C. 改变了现代信息传播的方式
- D. 扩大了人类获取知识的途径

36. 随着科技的发展、物质的丰富，如今的娱乐形式越来越缤纷多样，如电视剧、流行音乐、网络等。它们在给人快乐、满足人的欲望方面，更加快捷方便，也有着更大的刺激性和吸引力，比诗歌有着强得多的优势。人天生是寻求快乐的动物，既然有更好的娱乐方式，可以使人迅速消除烦恼，得到快感和精神享受，那么何必还要阅读诗歌？只有一些俗世高人，他们在空暇之日或夜阑人静时，或许会悄悄打开诗集，去聆听诗人梦幻般的自言自语，分享诗人心灵的孤独。

这段文字意在说明：

- A. 诗歌应与时俱进，积极寻求走出困境的方式

- B.诗歌不再是能给人带来快感和精神享受的文学样式
- C.便捷多元的娱乐方式导致了诗歌的衰落
- D.如今只有少数俗世高人能够理解诗人心灵的孤独

37.罩甲是明代戎服的一种，对襟，用纽扣固定，无袖或短袖，左右两侧及后部开裾，衣身可缀甲片，也可纯用织物制作，底边通常缀有彩色的排穗。明代戏曲舞台上青少年武将多穿罩甲，并配上金束发冠，显得英俊威武。清代之后戏曲中仍然沿用，分为排穗（须）甲与排须长马甲（坎肩）两种，与紫金冠配套。《红楼梦》里描写贾宝玉头戴束发紫金冠、身穿排穗褂子，就是将艺术造型移植了过来，体现了宝玉“将门公子”的身份。

关于罩甲，下列说法与原文相符的是：

- A.清代成为达官贵人的身份标志
- B.最晚产生于明代
- C.多由青少年武将穿着
- D.明代后期演变为戏曲服装

38.美感有时类似于灵感，只有在特定状况下才能产生。当公式的推导终于成功，或是忽然看懂一种繁难的理论，那一时刻的强烈感受不仅难以重现，也是不可转述的。晚唐的贾岛是有名的苦吟诗人，他和韩愈共同推敲“僧敲月下门”之句并结为忘年交之事自古传为佳话。然而他还有两句诗更是苦吟了数年——“独行潭底影，数息树边身”，对于这两句诗他自称：“二句三年得，一吟双泪流。知音如不赏，归卧故山秋。”然而后世却有人认为此句稀松常，“有何难吟”。这里自然也有文化底蕴的差别，但美感之难以传递也是极重要的原因，是以诗人自己也说“知音”方才能赏。

文中举贾岛的例子是为了说明：

- A.写诗就是在寻找灵感、创造美感
- B.世上知音难觅
- C.欣赏诗歌要有足够的文化底蕴
- D.美感很难向他人传递

39.“学习悖论”是古希腊有名的悖论之一，其内容是：人们在学习时通常会面临两种情况，一是不知道要学习的内容，二是已经知道了要学习的内容。在这两种情况下，学习都是无意义的，因为前者学习没有目标，后者学习没有必要。其实，破解这个悖论并不难，用我国古语中_____的道理就能做到。

填入划横线部分最恰当的一项是：

- A.“谦受益”与“满招损”
- B.“知其然”与“知其所以然”
- C.“博观而约取”与“厚积而薄发”
- D.“学而不思则罔”与“思而不学则殆”

40.经济学家曾打过一个有趣的比方：股市就像一杯啤酒，如果没有一点泡沫，说明它不新鲜(没有活力)；可如果泡沫太多，啤酒就少了，事实也是如此，一个繁荣的市场自然交易活跃，当然也就不可避免地会存在一些投机现象，但是如果投机盛行，成为市场的“规律”，那么这个市场一定要出问题。因为说到底_____。填入横线部分最恰当的一项是：

- A.啤酒的总量是有限的
- B.理性抑制了泡沫的产生
- C.泡沫是由执着的投机者造成的

D.支撑市场的是“啤酒”而非“泡沫”

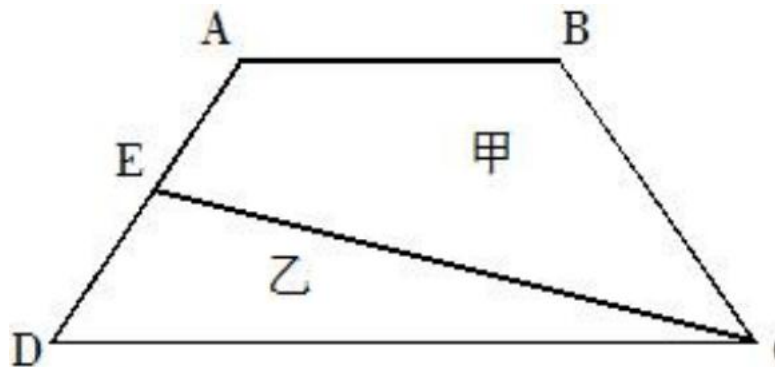
41.为帮助果农解决销路，某企业年底买了一批水果，平均发给每部门若干筐之后还多了 12 筐，如果再买进 8 筐则每个部门可分得 10 筐，则这批水果共有（ ）筐。

A.192 B.198 C.200 D.212

42.某餐厅设有可坐 12 人和可坐 10 人两种规格的餐桌共 28 张，最多可容纳 332 人同时就餐，问该餐厅有几张 10 人桌？

A.2 B.4 C.6 D.8

43.如图 ABCD 是一个梯形，E 是 AD 的中点，直线 CE 把梯形分成甲、乙两部分，其面积之比是 15 : 7。问上底 AB 与下底 CD 的长度之比是：



A.5 : 7 B.6 : 7 C.4 : 7 D.3 : 7

44.甲、乙、丙三人同去商城购物，甲花的钱的 $\frac{1}{2}$ 等于乙花的钱的 $\frac{1}{3}$ ，乙花的钱 $\frac{3}{4}$ 的等于丙花的钱的 $\frac{4}{7}$ ，结果丙比甲多花 93 元，则三人一共花的钱是：

A.432 元 B.422 元 C.429 元 D.430 元

45.某单位每四年举行一次工会主席选举，每位工会主席每届任期四年，那么在 18 年期间该单位最多可能有（ ）位工会主席。

A.5 B.6 C.7 D.8

46.已知一个长方体的长、宽、高分别为 10 分米、8 分米和 6 分米，先从它上面切下一个最大的正方体，然后再从剩下的部分上切下一个最大的正方体。问切除这两个正方体后，最后剩下部分的体积是多少？

A.212 立方分米 B.200 立方分米
C.194 立方分米 D.186 立方分米

47.一艘船从 A 地行驶到 B 地需要 5 天，而该船从 B 地行驶到 A 地则需要 7 天。假设船速、水流速度不变，并具备漂流条件，那么船从 A 地漂流到 B 地需要（ ）天。

A.40 B.35 C.12 D.2

48.某商场开展购物优惠活动：一次购买 300 元及以下的商品九折优惠；一次购买超过 300 元的商品，其中 300 元九折优惠，超过 300 元的部分八折优惠。小王购物第一次付款 144

元，第二次又付款 310 元。如果他一次购买并付款，可以节省（ ）元。

- A.16 B.22.4 C.30.6 D.48

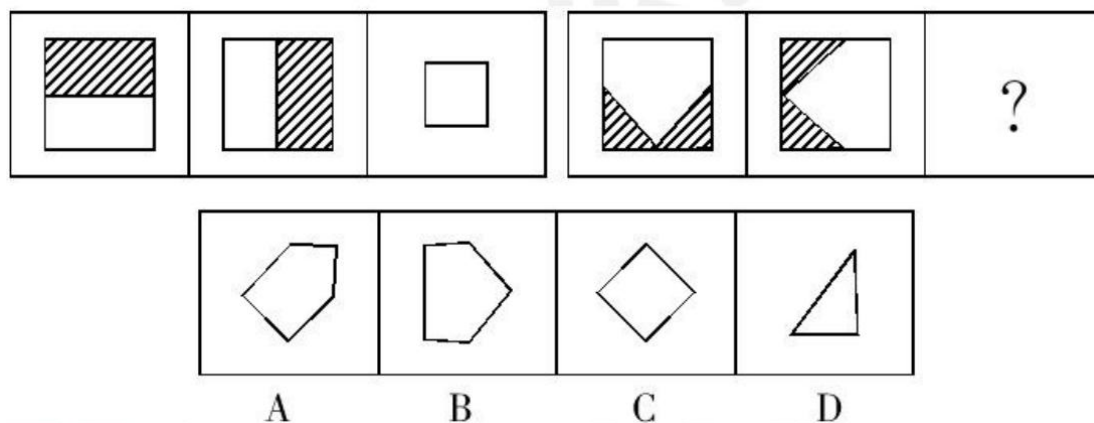
49.甲乙两辆车从 A 地驶往 90 公里外的 B 地，两车的速度比为 5 : 6。甲车于上午 10 点半出发，乙车于 10 点 40 分出发，最终乙车比甲车早 2 分钟到达 B 地。问两车的时速相差多少千米/小时？

- A.10 B.12 C.12.5 D.15

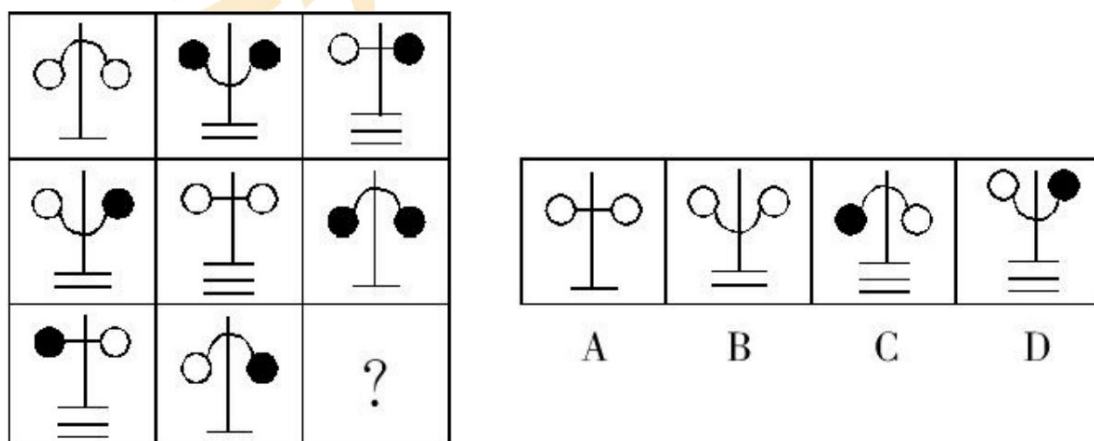
50.某高校对一些学生进行问卷调查。在接受调查的学生中，准备参加注册会计师考试的有 63 人，准备参加英语六级考试的有 89 人，准备参加计算机考试的有 47 人，12 三种考试都准备参加的有 24 人，准备选择两种考试参加的有 46 人，不参加其中任何一种考试的有 15 人。问接受调查的学生共有多少人？

- A.120 B.144 C.177 D.192

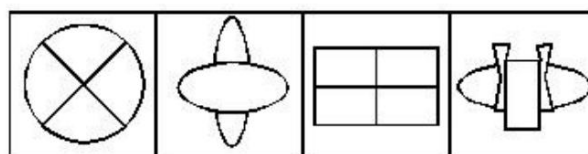

51.



52.

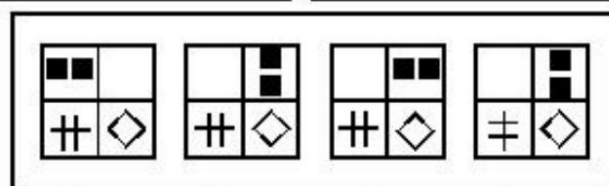
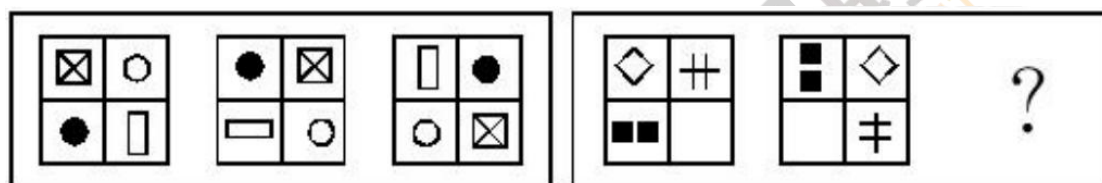


53.



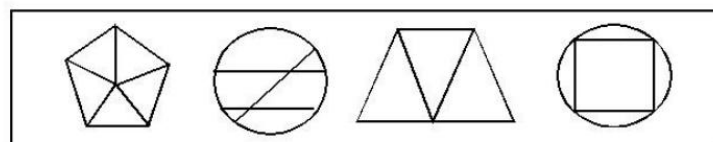
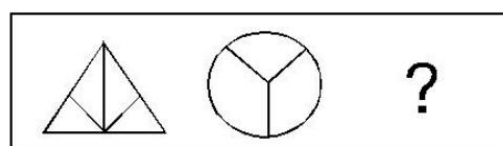
A B C D

54.





A B C D

55.



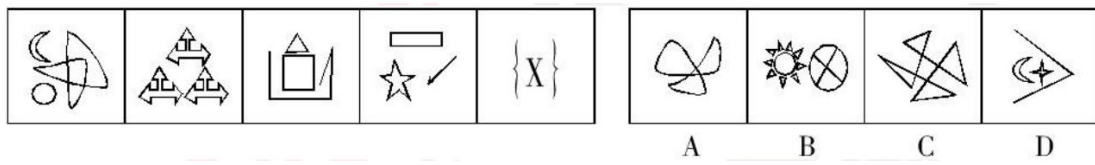
A B C D

56.

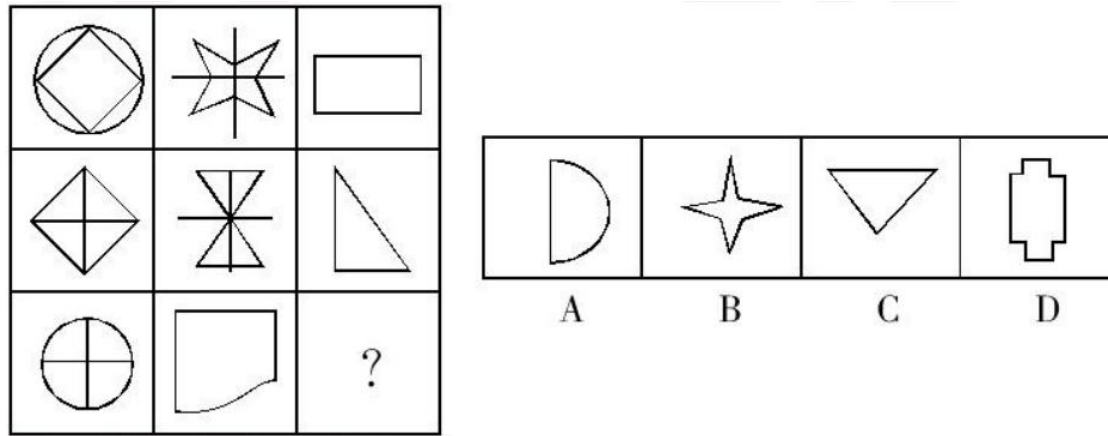


A B C D

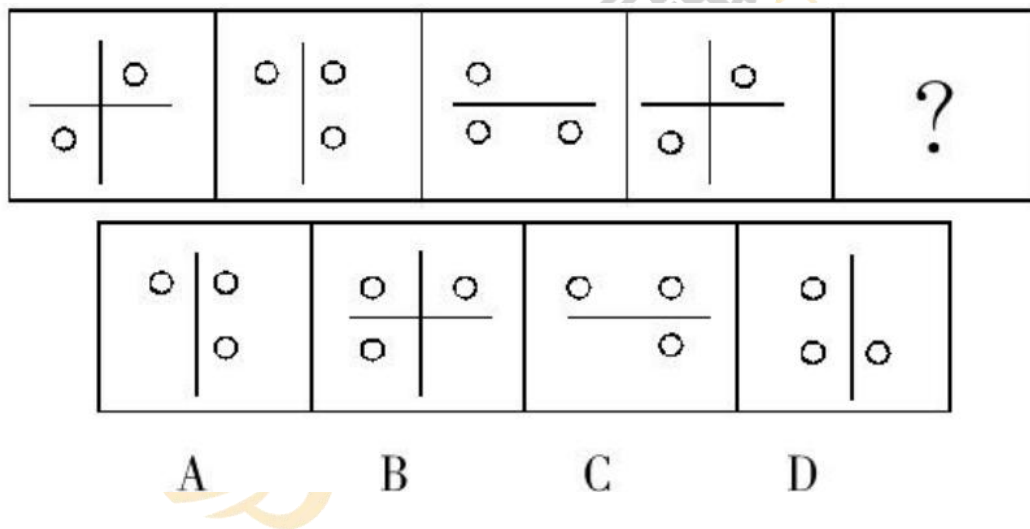
57.



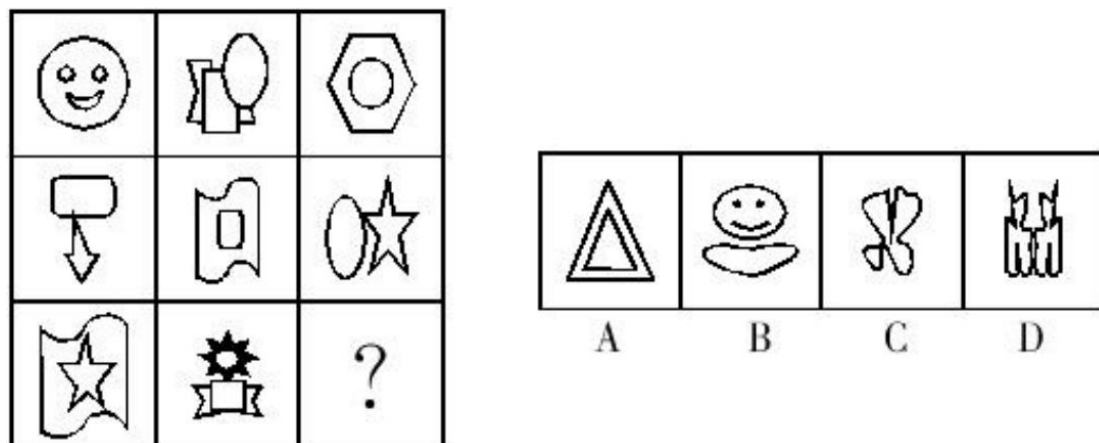
58.



59.



60.



61.如果商品房价格太高，并且不注意改善质量，那么商品房的销售量就会下降。据此，可以推出：

- A.如果商品房的销售量下降，那么，不是价格太高，就是不注意改善房屋质量
- B.如果商品房的销售量上升，那么，一定是降价售房和改善房屋质量了
- C.如果商品房价格太高，那么，如果不注意改善质量，商品房的销售量就会下降
- D.如果商品房价格太高，那么，即使注意改善质量，商品房的销售量也会下降

62.2008 年以来，索马里附近海域先后发生累计逾 120 起的海盗劫船事件。海盗何以猖獗？甲乙丙丁四人有断定如下：

甲：海盗猖獗的主因是被劫船只的船主通常都愿支付高额赎金。

乙：如果海盗猖獗的主因是被劫船主愿支付高额赎金，那么肯定会助长了海盗的气焰。

丙：确实助长了海盗的气焰，但其主因并非被劫船主都愿支付高额赎金。

丁：海盗猖獗主因是被劫船主愿支付高额赎金，但其嚣张气焰并非都由此生成。

如果上述断定只有一个人的断定为真，那么以下断定都不可能为真，除了：

- A.甲
- B.乙
- C.丙
- D.丁

63.甲、乙、丙、丁四个人同时竞争一个就业职位，他们四个人中只能有一个人获得该职位，在面试结束时，他们四个人对该次面试的结果进行了预测：

甲：这次我肯定得不到这个职位

乙：我估计这个职位应该是丁获得

丙：乙的口才最好，乙肯定能得到这个职位

丁：乙的说法没有任何根据

四个人中只有一个说对了，那么到底谁能获得这个职位？

- A.甲
- B.乙
- C.丙
- D.丁

64.为恶意和憎恨所局限的观察者，即使具有敏锐的观察力，也只能见到表面的东西；而只有当敏锐的观察力同善意和热爱相结合，才能探到人和世界的最深处，并且还有希望达到最崇高的目标。由此可以推出：

- A.世界上没有人能够达到最崇高的目标
- B.没有敏锐的观察力不可能探到人的最深处
- C.人性恶是人的表面现象
- D.有善意的观察者见不到表面的东西

65.近几年，为治理城镇污水，污水处理厂的建设不断升温。大规模上马污水处理厂的确能在短期内实现城镇生活污水 COD 的减排。但是，一些地方城镇生活污水经过鱼塘和天然湿地的生态净化，COD 浓度也能大幅度降低。

由此推出：

- A.单一的集中治理模式不符合环境保护自身的规律
- B.治污就是要付出消耗能量和资金的代价的
- C.减排手段应因地制宜，多种方式相结合
- D.为治污而治污，不能将节能与减排结合好

66.联合国粮农组织拉丁美洲地区代表日前表示，全球投资基金和美元疲软在很大程度上应该对世界食品价格高涨负责。近来从面包到牛奶在内的各种食品都出现了全球性涨价，并在一些国家推动了通胀，他说：“这场危机是由投机造成的，并将持续下去，对美元的信心不足已经使得投资基金转向商品寻求更高回报，首先是金属，然后是食品。”

由此可以推出：

- A.投资基金投机行为造成全球食品上涨
- B.投资基金原来的投资对象是美元
- C.加拿大食品价格上涨与美元疲软有关
- D.投机行为也导致全球金属价格提高

67.某国科学家日前称：他们最近首次在实验室成功地利用胚胎干细胞人工培育出 O 型 RH 阴性血液，由于 O 型 RH 阴性血液称为“万能血型”，能够与任何其他血型相匹配，这就使得人类将不必再为血源紧张而发愁。以下如果为真，最能削弱上述结论的是：

- A.经过诱导，多功能干细胞同样可能产生血液
- B.对于很多病人来说，供血不足并非是一个致命的威胁
- C.利用胚胎干细胞人工培育 O 型阴性血液现在比较贵
- D.制造 O 型 RH 阴性血液需要 A、B 和 AB 型血 R 阴型作为原料，这些血型同样稀缺

68.有人说：“只有认识错误，才能改正错误。”

如果以上判断是真的，可能出现的情况是：

- ①某人认识了错误，没有能改正错误。
- ②某人没有认识错误，改正了错误。
- ③某人没有认识错误，没能改正错误。
- ④某人认识了错误，改正了错误。

- A.①
- B.①②③
- C.③④
- D.①③④

69.要高速发展国民经济，就必须有科学技术的高速发展。

与以上判断逻辑完全相同的是：

- A.只有科学技术的高速发展，才能有国民经济的高速发展
- B.要高速发展科学技术，就必须有国民经济的高速发展
- C.只要有科学技术的高速发展，就必定有国民经济的高速发展
- D.高速发展国民经济和高速发展科学技术是完全一致的

70.任何证人的未经证实的证词都不是陪审员进行判决的依据。因为在一般情况下高度怀疑任何人没有证据的诉讼请求都是明智的，不过陪审员们不应该为了保持一致而相信其共同经验：根据未经证实的所有认罪供词而宣告被告有罪。

下列哪一项支持上述观点？

- A.关于被告在审判前撤回所有供词的案例，陪审员们通常宣告无罪
- B.设置陪审团选择程序的目的就是在审判前选出那些对被告的罪行有确定观点的人
- C.当被告确实犯有该罪行或者终于相信原告有足够证据时，他有时会认
- D.对于那些被控有罪行且易被暗示的人来说，他们很难确定自己对往事的回忆，于是最终接受了对自己不利的控告

71.有人认为，语言对于个人和社会都极其重要，语言不仅能方便人际间的交流，还能产生物质资料。以下最能反驳这一观点的是：

- A.人和人之间的交流不依靠语言
- B.言谈举止体现了一个人的修养
- C.世界上很多夸夸其谈的人却是穷光蛋
- D.世界上不少富有的人能言善道

72.人的一生是短暂而变化莫测的，当科学不能解除人们极大的痛苦的时候，剥夺他们通过信仰来获得安慰的权力，就显得有些残忍。那些经不起科学重负的人可以不受约束地忽略科学的箴言。

由此可以推出：

- A.科学与信仰之间是没有冲突的，没有人百分之百的信奉科学
- B.人的生命是科学无法诠释的，我们只能通过信仰得到解脱
- C.随着科学的进步和发展，宗教信仰必将被科学理性的思想所取代
- D.在科学无能为力的领域，信仰扮演起救世主的角色

73.液态水和合适成分的空气看来对生命的出现是不可或缺的。

得到这一结论的前提条件是：

- A.有些行星上已形成了完成光合作用的条件
- B.目前已知的生物都需要水和空气来维持生命
- C.在其他行星上已经发现了液态水和氧气的存在
- D.已发现一些新的生命体仅需要水即可维持生命

74.湖北省药物不良反应监测中心公布的数据显示，今年 1—6 月的 1310 起药物不良反应案例中，八成以上与静脉滴注有关。绝大多数病人并不清楚静脉滴注可能带来的药物不良反应隐患，而部分深知此理的医生却未尽到告知义务。

由本段文字可以推出：

- A.单纯由服用药物引起的不良反应只占一部分
- B.只有小部分的静脉滴注会产生药物不良反应
- C.静脉滴注产生不良药物反应主要的责任在医生
- D.大部分医生不会告诉病人静脉滴注的不良反应

75.小明在星期一、星期二、星期三说谎话，丽丽在星期四、星期五、星期六说谎话；此外的日子里，他们都讲真话。青青忘了今天是星期几，他问小明，小明说：“昨天是我说谎话的日子。”他又问丽丽，丽丽也说：“昨天是我说谎话的日子。”

由此可以推断今天是：

- A.星期一
- B.星期四
- C.星期六
- D.星期天

根据以下资料，回答 76~80 题。

某市 2015 年全年粮食总产量 4.16 万吨，同比下降 2.3%；甘蔗产量 0.57 万吨，下降 23.6%；油料产量 0.12 万吨，增长 32.4%；蔬菜产量 15.79 万吨，下降 3.4%；水果产量 7.84 万吨，增长 7.4%。

全年水产品产量 29.16 万吨，同比增长 3.6%。其中海洋捕捞 1.09 万吨，与上年持平；海水养殖 6.07 万吨，增长 89.5%；淡水捕捞 0.18 万吨，增长 1.1%；淡水养殖 21.81 万吨，

下降 7.9%。

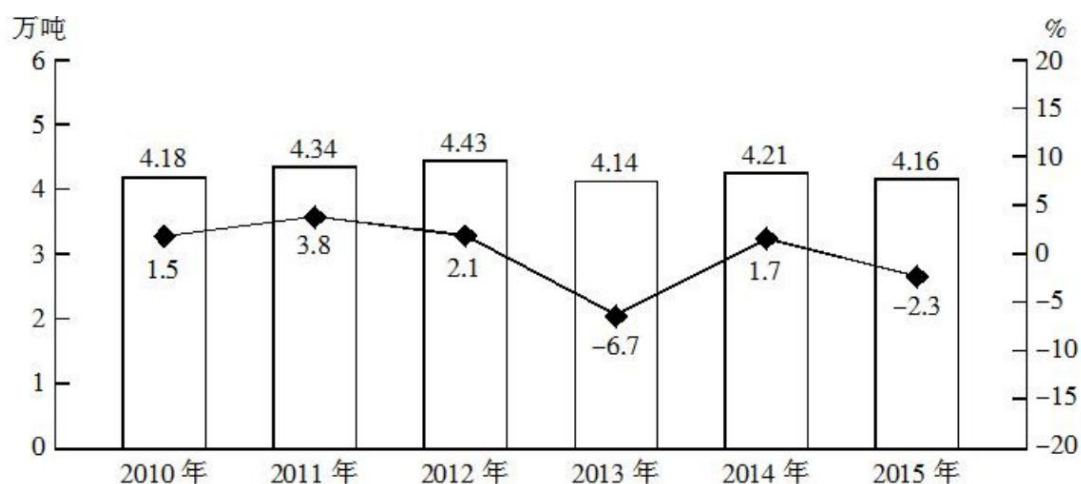


图 2010-2015 年某市粮食产量及其增速

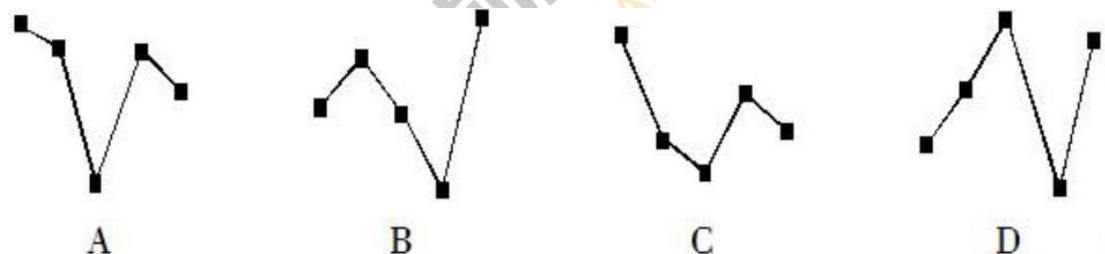
76.2014 年该市蔬菜产量比水果产量约高多少万吨？

- A.8 B.9 C.6 D.7

77.“十二五”期间，该市粮食总产量在以下哪个范围？

- A.20~21 万吨之间 B.21~22 万吨之间
C.22~23 万吨之间 D.23~24 万吨之间

78. 以下哪张折线图能准确反映 2011—2015 年间，该市粮食生产同比增量的变化趋势？



79.按照 2015 年水产品产量从多到少，以下排序正确的是：

- A.海洋捕捞、海水养殖、淡水捕捞、淡水养殖
B.淡水捕捞、淡水养殖、海洋捕捞、海水养殖
C.淡水养殖、海洋捕捞、海水养殖、淡水捕捞
D.淡水养殖、海水养殖、海洋捕捞、淡水捕捞

80.能够从上述资料中推出的是：

- A.2014 年油料产量超过 1000 吨
B.2014—2015 年甘蔗累计产量不到 1 万吨
C.2010—2015 年，粮食产量同比上升的年份多于同比下降的年份
D.除淡水养殖之外，其余类型的水产品 2015 年产量占水产品总产量的比重均高于上年

根据以下资料，回答 81~85 题。

2015 年我国钟表全行业实现工业总产值约 675 亿元，同比增长 3.2%，增速比上年同期提高 1.7 个百分点。

全行业全年生产手表 10.7 亿只，同比增长 3.9%，完成产值约 417 亿元，同比增长 4.3%，增速提高 1.9 个百分点；生产时钟（含钟心）5.2 亿只，同比下降 3.7%，完成产值 162 亿元，同比下降 4.7%，降幅扩大 1.3 个百分点；钟表零配件、定时器及其他计时仪器产值 96 亿元，同比增长 14.3%，增速基本保持上年水平。

2015 年我国钟表行业规模以上工业企业主营业务收入 365.8 亿元，同比增长 8.7%；实现利润 23.4 亿元，与上年相比下降 1.5%，而 2015 年轻工行业主营业务利润率（利润/主营业务收入）的平均水平为 7.57%。

2015 年我国钟表行业海关进出口总额为 92.5 亿美元，同比增长 4%，完成出口总额为 57.7 亿美元，同比增长 8.3%，进口额 34.8 亿美元。出口总额中加工贸易额占 47%，较上年缩小 2 个百分点。

81.2015 年我国钟表全行业生产时钟（含钟心）的产值与 2013 年相比约：

- A.下降了 8%
- B.下降了 11%
- C.上升了 8%
- D.上升了 11%

82.2015 年钟表全行业平均每制造一只手表，能实现约多少元的产值？

- A.36
- B.39
- C.42
- D.63

83.2015 年我国钟表行业规模以上工业企业主营业务利润率比轻工行业平均水平：

- A.低 1.2 个百分点
- B.高 1.2 个百分点
- C.低 3 个百分点
- D.高 3 个百分点

84.2014 年我国钟表行业贸易顺差约为多少亿美元？

- A.18
- B.23
- C.25
- D.27

85.能够从上述资料中推出的是：

- A.2014 年手表产值同比增速低于钟表全行业工业总产值增速
- B.2015 年时钟（含钟心）产值达到手表产值的一半以上
- C.2015 年钟表零配件、定时器及其他计时仪器产值比 2013 年增长 20%以上
- D.2015 年钟表行业海关出口总额中加工贸易额占进出口总额的 40%以上

根据以下资料，回答 86~90 题。

截至 2014 年末，我国共有博物馆 3658 个，占文物机构总数的 43.5%。全国文物机构拥有文物藏品 4063.58 万件，比上年末增加 222.77 万件。其中，博物馆文物藏品 2929.97 万件，文物商店文物藏品 770.00 万件。文物藏品中，一级文物 9.82 万件，二级文物 68.82 万件，三级文物 340.51 万件。

2014 年全国文物机构共安排基本陈列 9996 个，比上年增长 19.1%；举办临时展览 11174 个，增长 15.8%；接待观众 84256 万人次，增长 12.8%，其中博物馆接待观众 71774 万人次，占文物机构接待观众总人次的 85.2%。表 表 2008-2014 年 我国文物机构工作相关情况统计

86.2014 年，我国文物机构相关指标同比增速最快的是：

- A.从业人员数
- B.文物机构数
- C.参观人数
- D.未成年人参观人数

87.2014 年，平均每家博物馆接待观众人次数约是其他文物机构的多少倍？

- A.2
- B.4.5
- C.7.5
- D.11

88.2014 年末，我国一、二、三级文物总量占全部文物藏品的比重最接近以下哪个数字？

- A.8%
- B.10%
- C.14%
- D.54%

89.2008—2014 年间，文物机构参观者中未成年人占比超过三成的年份有几个？

- A.1
- B.2
- C.3
- D.4

90.能够从上述资料中推出的是：

- A.2014 年末，我国平均每家博物馆文物藏品超过 1 万件
- B.2014 年平均每家文物机构安排的基本陈列数低于上年水平
- C.2010—2012 年，文物机构接待成年参观者人次数逐年上升
- D.2013 年，我国全部文物机构日均接待参观者 200 多万人次



高顿金融招聘
GOLDEN FINANCIAL RECRUITMENT